

# 中1社会 第一次世界大戦の終結と国際協調

---

講師：河原 数馬

## <学習内容>

- ▶ 第一次世界大戦の終結
- ▶ 国際協調
- ▶ アジアの民族運動

## 第一次世界大戦の終結

### ■ベルサイユ条約

1918年、ドイツの降伏により第一次世界大戦が終結した。翌年のパリ講和会議においてベルサイユ条約が結ばれた。

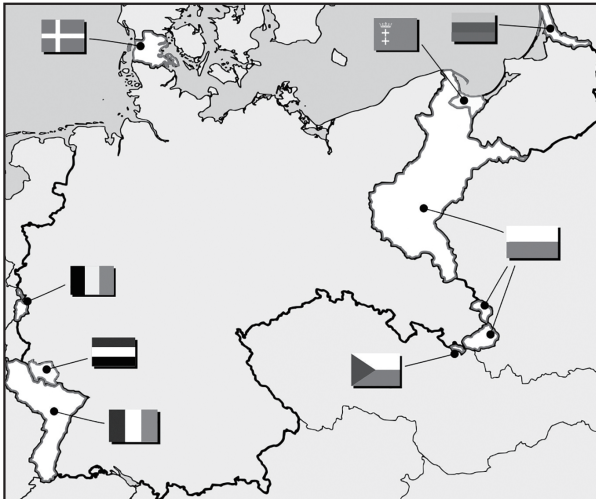
### ■ベルサイユ条約のおもな内容

- ① ドイツは植民地を失い、領土を縮小された。
- ② ドイツには巨額の賠償金が課された。
- ③ 山東半島と太平洋地域のドイツ植民地が日本に渡された。

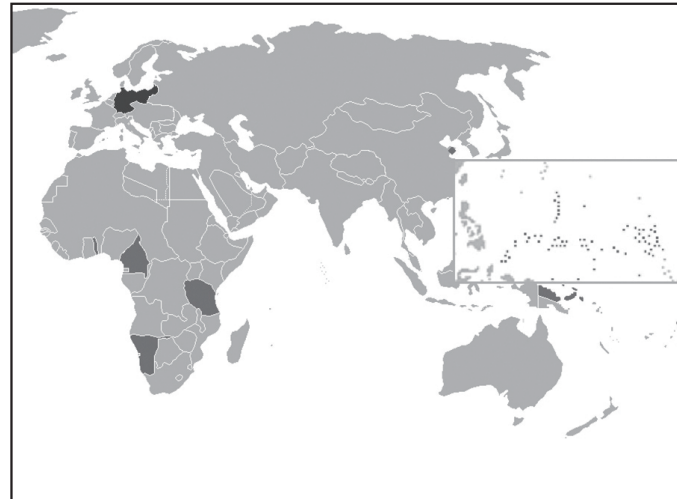
# 第一次世界大戦の終結



▲ベルサイユ条約の調印



▲ドイツが失った領土



▲ドイツの植民地

## ■ 国際連盟


アメリカのウィルソン大統領の提案にもとづき、  
1920年に世界平和と国際協調のための**国際連盟**が誕生した。



▲ウィルソン大統領



▲国際連盟



▲ワシントン会議

### ■ワシントン会議

1921年からアメリカの呼びかけでワシントン会議が開かれた。

### ■ワシントン会議で決まったこと

- ① 海軍の軍備を制限：主力艦と航空母艦の保有量が制限された。
- ② 中国の独立と領土保全の確認：日本が山東半島の權益を中国に返還した。
- ③ 日英同盟の解消

## 四択問題

ベルサイユ条約の内容として最も不適切なものを次のア～エの中から1つ選びなさい。

ア. 日本はドイツから山東半島の利権を受け継いだ。

イ. 日英同盟が解消された。

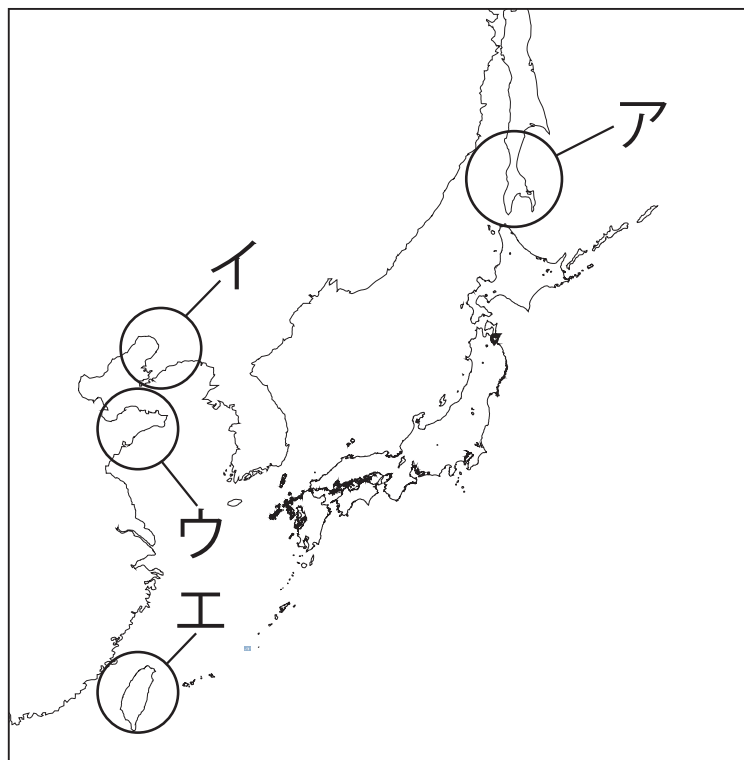
ウ. ドイツは賠償金を支払うこととなった。

エ. ドイツは海外の植民地を全て失った。

# 入試問題（平成 28 年度 山形県公立高校入試問題・改）

ワシントン会議の結果，日本から中国に返還されたのはどこの権益か。略地図中のア～エから一つ選びなさい。

(地図)



## アジアの民族運動 ①

### ■インドでの運動

インドでは**ガンディー**が非暴力・不服従を唱えてイギリスからの独立を目指した。



▲ ヨーロッパに派遣されたインド兵



▲ ガンディー




## アジアの民族運動 ②


### ■朝鮮での運動

1919年3月1日に日本からの独立を目指す運動である  
**三・一独立運動**が起きた。


⇒日本は武力による支配を改めて、  
朝鮮の近代化に力を入れるようになる。



▲朝鮮人のデモに備える日本の警察



▲日本が朝鮮に建設した水力発電所



▲日本が朝鮮に敷設した鉄道

## アジアの民族運動 ③

### ■中国での運動

日本の**二十一か条の要求**に反対する人々が  
1919年5月4日に反日運動を起こした（**五・四運動**）。



▲五・四運動

## 空欄補充問題

次の文中の（ a ）にあてはまる国名と，（ b ）にあてはまる漢字 3 字の語を書きなさい。

ガンディーは，（ a ）がイギリスから独立することを目指して，非暴力・（ b ）の運動をおこなうことを主張した。

a :

b :