

## <学習内容>


- ▶ 義和団の抵抗
- ▶ 日露戦争
- ▶ ポーツマス条約

# 義和団の抵抗 ①

## ■<sup>ぎわだん</sup>義和団事件

清では外国勢力を追い払おうとする運動がさかんになった。

1899年に<sup>ぎわだん</sup>義和団が<sup>ほうき</sup>蜂起し、日本やロシアなどの連合軍がこれを  
<sup>ちんあつ</sup>鎮圧した（**義和団事件**）。



▲連合軍の兵士

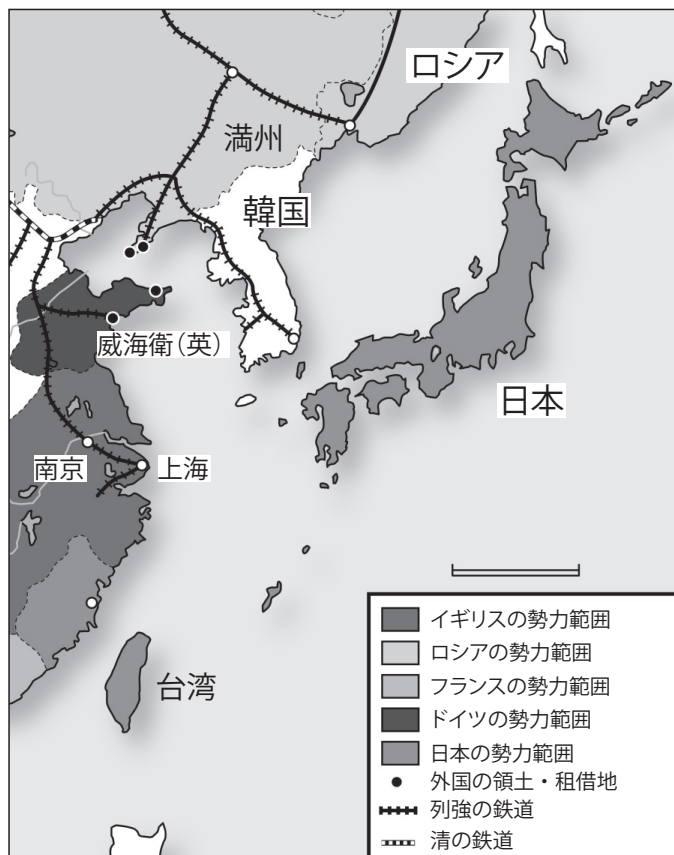


▲義和団の兵士

## 義和団の抵抗 ②

### ■<sup>まんしゅう</sup>満州にとどまるロシア

義和団事件後，ロシアは満州を事実上占領し，軍隊を配備した。さらにロシアは韓国への影響力も強める。



◀ 列強の中国分割 (20世紀のはじめ)



▲ 義和団を攻撃するロシア軍




▲ 満州を占領するロシア軍



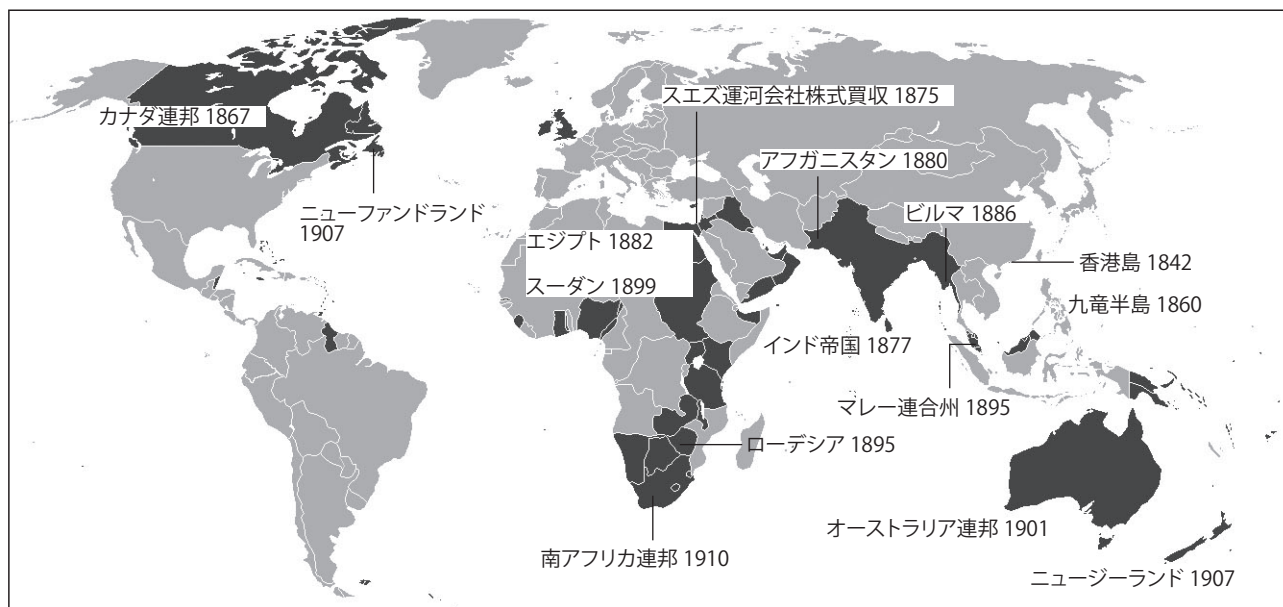
# 日露戦争 ①

## ■日英同盟

ロシアの勢力拡大を阻止したい日本と、ロシアの動きをおさえたいイギリスの利害が一致し、1902年に**日英同盟**が結ばれた。



▲当時の国際関係を表した図



▲イギリスの勢力図

# 日露戦争②

## ■ 日露戦争

1904年、日露戦争が始まる。



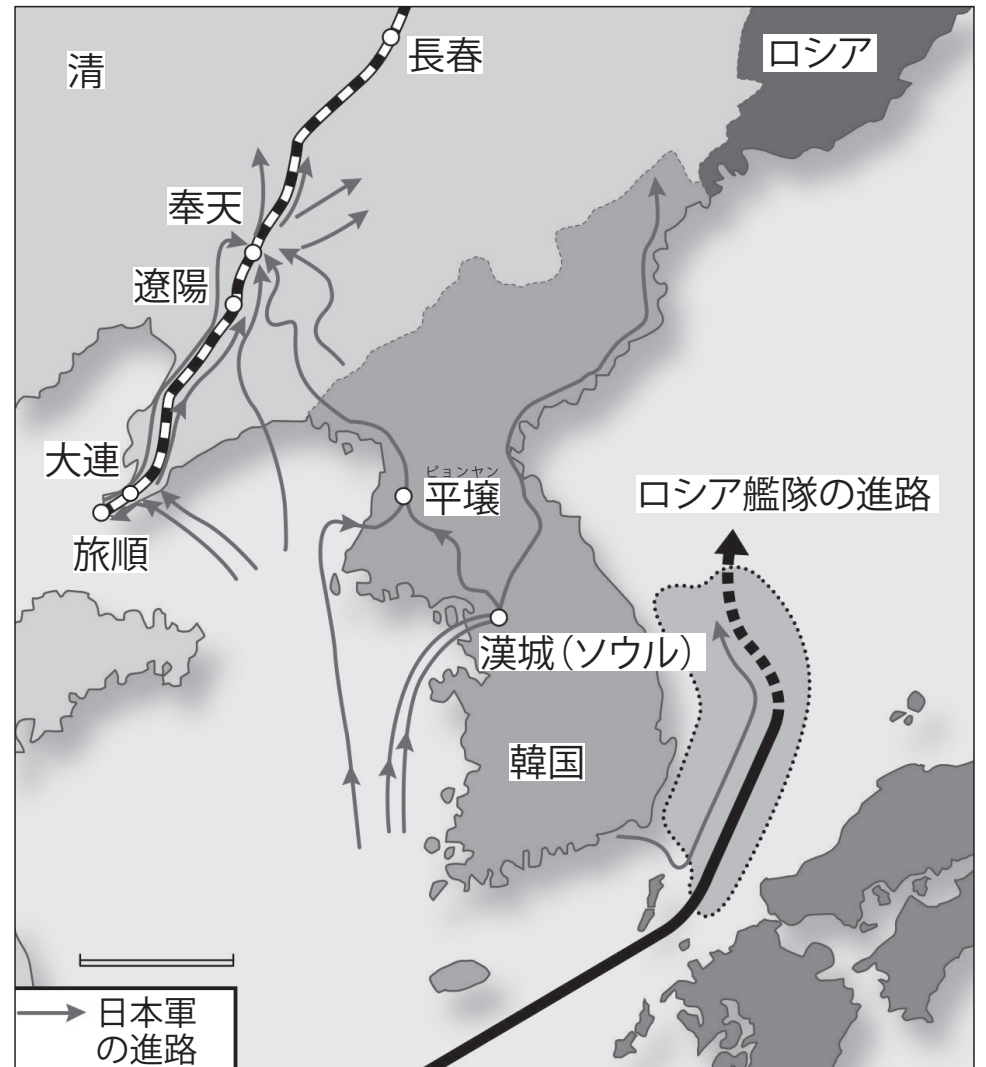
▲ 日露戦争①



▲ イギリスの観戦武官



▲ 日露戦争②



▲ 日露戦争

## 入試問題（平成 28 年度 千葉県公立高校入試問題・改）

次の文章は日清戦争後に起きたできごとについて述べたものである。このできごとを何というか。最も適当なものを、あとのア～エのうちから一つ選びなさい。

列強の中国分割に対して、清では外国の勢力を排除しようという動きが強まった。この動きは北京に広がり、各国の公使館を包囲した。日本を中心とする 8 か国の連合軍は共同で出兵してこれをしずめた。

- ア. 義和団事件                      イ. 江華島事件  
ウ. 甲午農民戦争                  エ. 日露戦争

# 入試問題（平成 28 年度 山梨県公立高校入試問題・改）

下の図は、風刺画に描かれた日露戦争の直前の国際情勢を表したものである。図中の  ,  に当てはまる国の名前を、それぞれ書きなさい。



⇔ 対立 ⇔ 日本 = 同盟 =

X :

Y :



# ポーツマス条約

## ■ポーツマス条約の内容

- ① ロシアは、韓国における日本の優越権を認める。
- ② ロシアは、<sup>りよじゅん</sup>旅順・<sup>だいにん</sup>大連の租借権，<sup>ちんしゅん</sup>長春以南の鉄道の利権を日本にゆずりわたす。
- ③ ロシアは、北緯 50 度以<sup>からふと</sup>南の樺太を日本に<sup>かつじょう</sup>割譲。



◀ポーツマス条約で  
日本が獲得した地域



# ポーツマス条約

1905年, アメリカの仲介によりポーツマス条約が結ばれる。



▲日本の代表



▲日露の代表