

## <学習内容>

- ▶ 条約改正の実現
- ▶ 日清戦争の終結
- ▶ 三国干渉と列強の清への進出
- ▶ 工業の発展

## 条約改正の実現

### ■ノルマントン号事件

1886年にイギリスの貨物船ノルマントン号が沈没し、イギリス人は全員救出されたが、日本人は全員水死した事件がおきた（ノルマントン号事件）。日本人乗客を救助しなかったイギリス人船長を日本側で裁くことができなかった。

### ■領事裁判権の廃止

1894年、ロシアの南下を警戒するイギリスと交渉し、領事裁判権の廃止に成功した。（日英通商航海条約の締結）

※関税自主権の完全回復は 1911 年



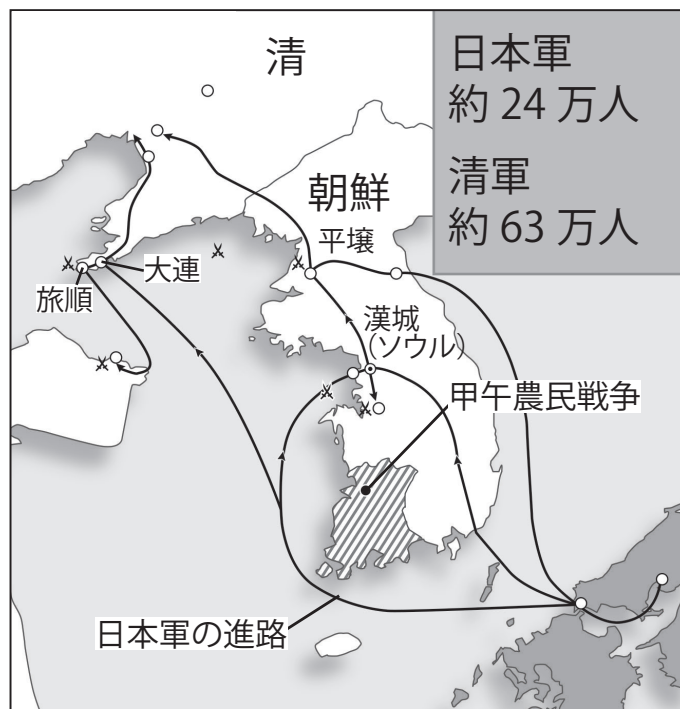
◀ノルマントン号事件

## ■日清戦争

1894年に朝鮮半島で農民による反乱(こうごのうみんせんそう 甲午農民戦争)が起これると、清が朝鮮半島に軍隊をおくり、それに対抗して日本も軍隊をおくり、日清戦争が起きた。



▲甲午農民戦争に参加した朝鮮人



▲日清戦争時の日本軍の進路



▲日清戦争の様子①



▲日清戦争の様子②

## 一問一答

以下の問に答えなさい。

- (1) イギリスの貨物船が沈没し、日本人が全員水死した事件を何というか。
- (2) 初めて領事裁判権の撤廃に成功したイギリスとの条約を何というか。

(1)

(2)

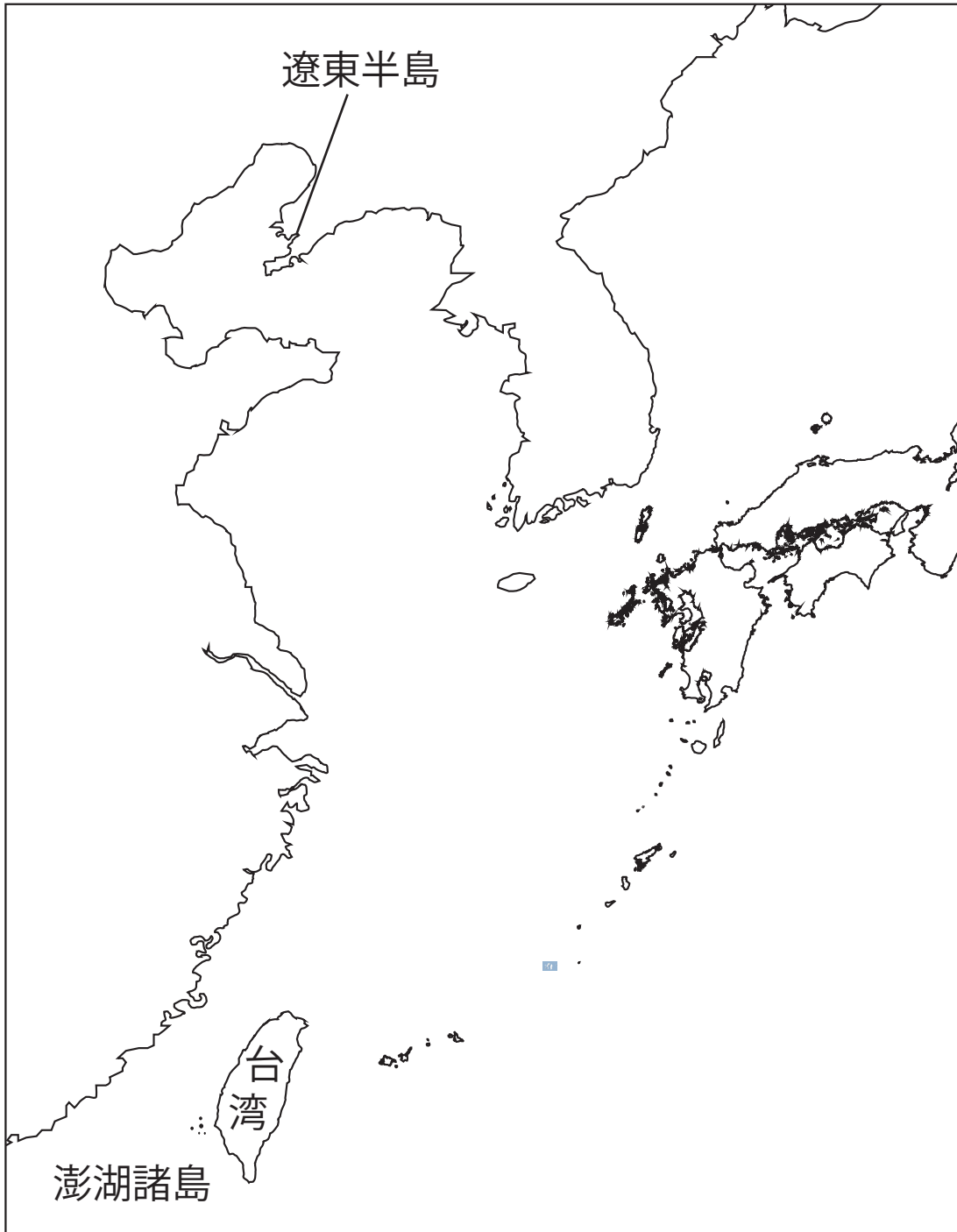
# 日清戦争の終結

## ■下関条約

1895年、日本は日清戦争に勝利し、<sup>しものせきじょうやく</sup>下関条約が結ばれた。

## ■下関条約の内容

- ① 清は朝鮮の独立を認める。
- ② 清は<sup>りょうとうはんとう</sup>遼東半島、台湾、<sup>ほうこしょとう</sup>澎湖諸島を日本にゆずる。
- ③ 清は日本に賠償金 2 億<sup>テール</sup>両(約3億1000万円)を支払う。



▲ 下関条約締結の図

◀ 下関条約で日本が獲得した領土

# 三国干渉と列強の清への進出

## ■<sup>さんごくかんしょう</sup>三国干渉

下関条約の締結直後、ロシア・ドイツ・フランスの3ヶ国が、日本が獲得した<sup>りょうとうはんとう</sup>遼東半島を清に返還するようにせまってきた<sup>さんごくかんしょう</sup>(三国干渉)。

⇒日本は<sup>りょうとうはんとう</sup>遼東半島を清に返還する。

## ■ロシアの進出

ロシアは<sup>りょうとうはんとう</sup>遼東半島の都市（大連、旅順）を清から<sup>そしゃく</sup>租借し、シベリア鉄道と接続する鉄道を清国内につくる権利を得た。

※租借…外国の領土を借り受けて、支配すること。

## 史料問題

史料は、日本の遼東半島獲得に対して、ロシアの新聞が意見を述べたものである。この史料を参照して以下の問に答えなさい。

(史料)

…（日清戦争の）開戦当初からロシアは日本に対しその隣国（朝鮮）を占拠しないよう警告してきたものの、日本はこれらの警告を無視する態度をとった。…

ロシアは黄色人種の文明など認めていないので、偶然の勝利によって勢いづいた①（日本の）野望をつぶさなければならない。ロシアにとって、…朝鮮に文明を導入しようなどという日本の野心は馬鹿らしいことだ。…日本が②条約で手に入れた朝鮮への影響力を、ロシアは認めることができない。…旅順は朝鮮への玄関口となっているが、日本はまさにそれを自分の手に握っており、…朝鮮で自由に振る舞おうとしている。我々は朝鮮に対する自分の権利を主張しなければならない。



- (1) 下線部②の条約とは日清戦争の講和条約のことである。その名称を答えなさい。
- (2) ロシアは日清戦争後、日本に遼東半島を清に返還するように求めた。このことを何というか。漢字4文字で答えなさい。


(1)

(2)

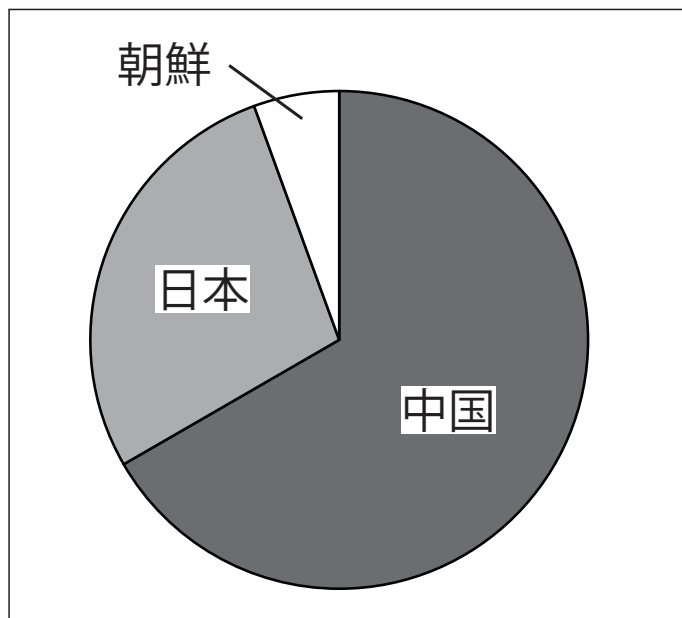
# 工業の発展

## ■八幡製鉄所

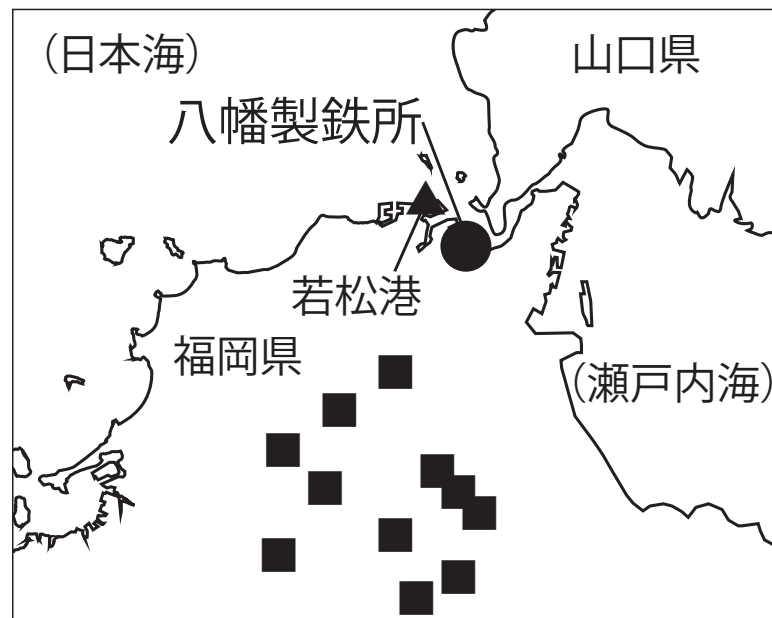
日清戦争の賠償金で**八幡製鉄所**が建設され、鉄鋼の生産が始まった。



▲八幡製鉄所



▲八幡製鉄所の鉄鉱石の産地別入荷量 (1901年)



▲北九州の地図  
■は石炭の生産地