

中1歴史 江戸幕府のしくみ

講師：河原 数馬

<学習内容>

- ▶徳川家康による天下統一
- ▶江戸幕府の成立
- ▶大名の配置
- ▶大名の統制
- ▶農民の統制
- ▶貿易統制
- ▶鎖国体制
- ▶鎖国完成後の対外関係

徳川家康による天下統一

とくがわいえやす 徳川家康

豊臣秀吉の死後，天下を豊臣家から奪い取るために動き出す。
⇒豊臣家の部下・石田三成いしだみつなりとの対立が深まる。



▲徳川家康

VS



▲石田三成

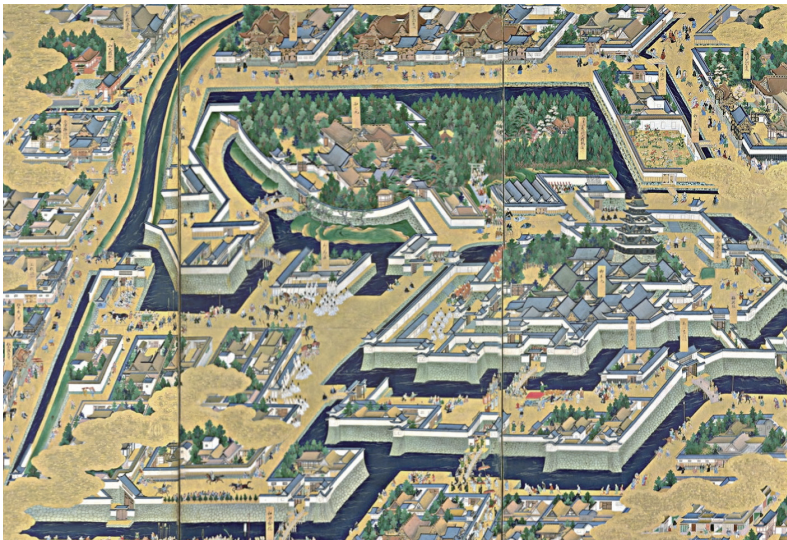
⇒全国の大名が，徳川側の東軍，石田側の西軍に分かれた。

江戸幕府の成立

■江戸幕府の成立

徳川家康は 1603 年に朝廷から征夷大將軍に任命され、江戸幕府を開く。

⇒ 1615 年に、徳川家康は豊臣氏を滅ぼした（大坂の陣）。



▲ 江戸城



▲ 大坂の陣

大名の配置

■大名の種類

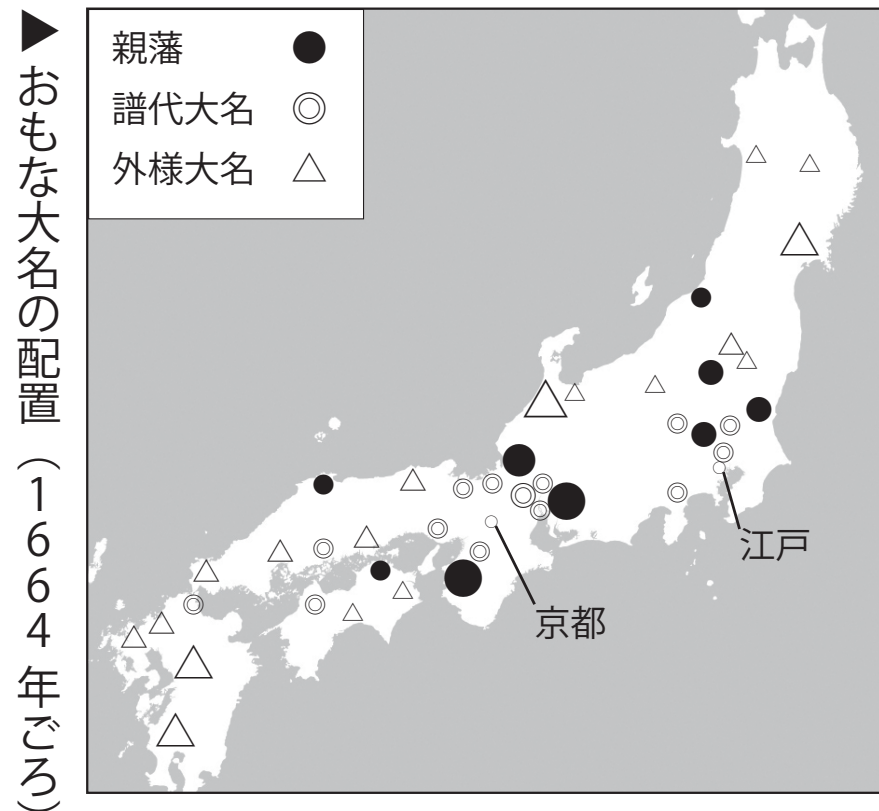
しんぱん
親藩 : 徳川一門(一族)の藩

ふだい
譜代大名 : 関ヶ原の戦い以前から徳川氏に従っていた大名

とざま
外様大名 : 関ヶ原の戦いのころに徳川氏に従った大名

■大名配置の工夫

親藩や譜代大名を江戸や京都・大阪などの要地に配置し、外様大名を遠い地域に配置した。



大名の統制

■大名の統制

ぶけしよはつと
武家諸法度…大名の結婚や、城の建設などを規制した。


⇒三代目将軍いえみつ**徳川家光**は**参勤交代**を定めた。

これにより、大名は1年おきに領地と江戸を往復することになった。

⇒大名は、江戸屋敷の費用や、往復の交通費などの出費に苦しむこととなった。



▲ 参勤交代の時の大名行列の図

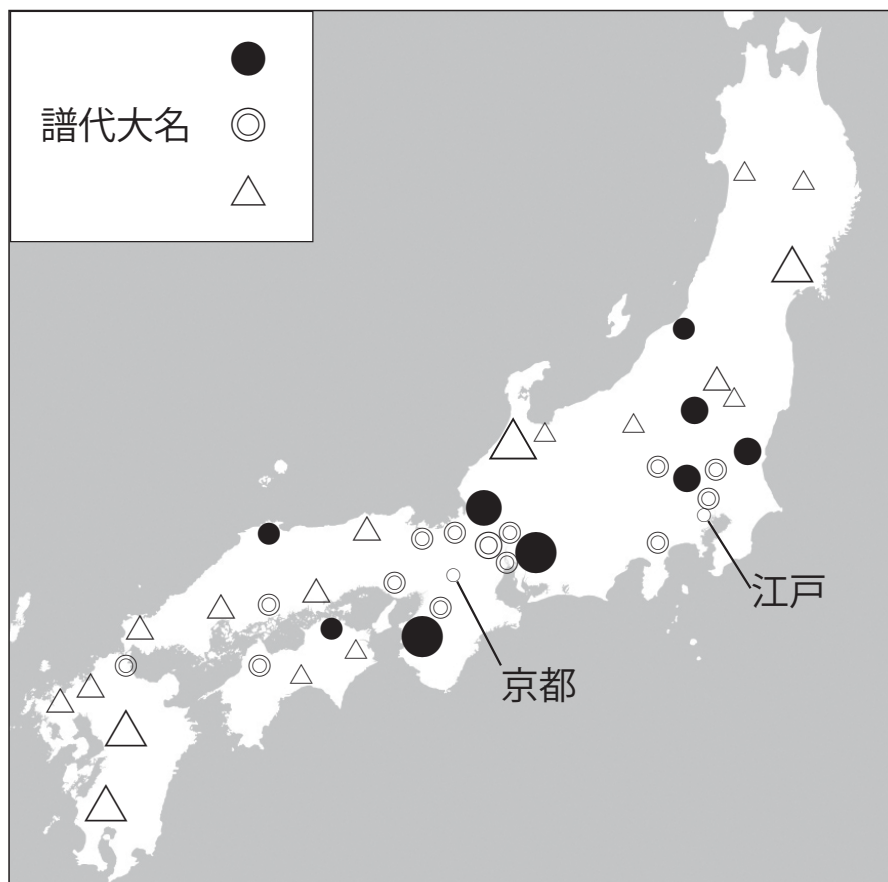


◀ 江戸藩邸

一問一答

地図と文章を参考に、大名の名前を答えなさい。

(地図)



●や譜代大名は江戸や京都・大阪などの要地に配置し、△を遠い地域に配置した。

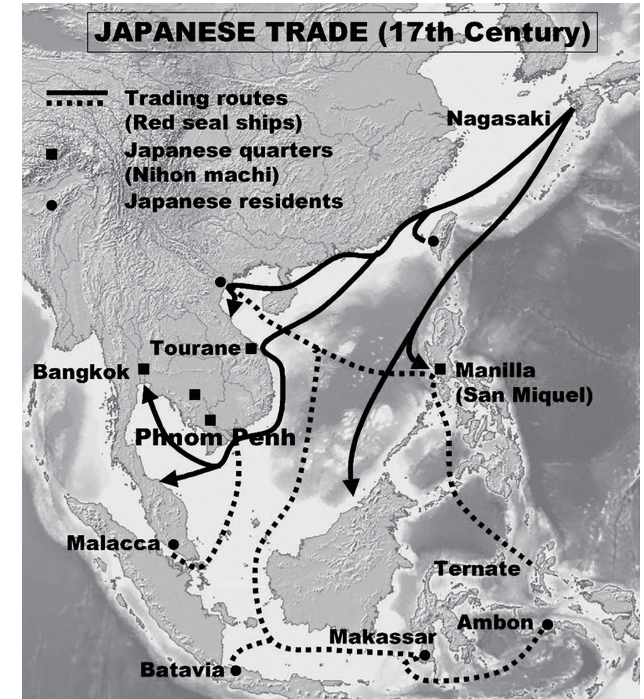


貿易奨励

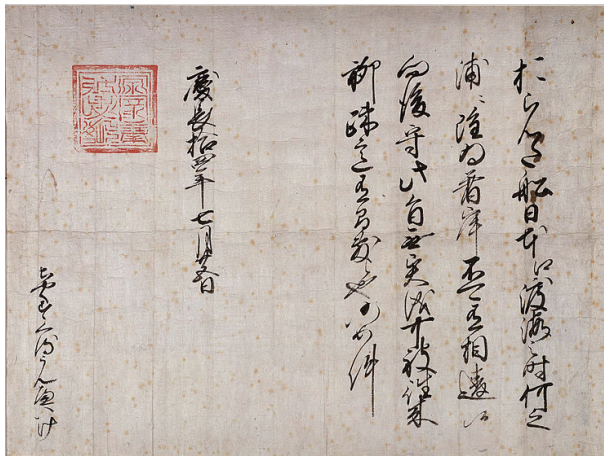
徳川家康の対外政策

徳川家康は朱印状を商人や大名に与え、海外との貿易を認めた。


⇒この貿易を**朱印船貿易**と呼び、東南アジアなどに移住した日本人は現地に**日本町**をつくった。



朱印船の航路



朱印状



朱印船



日本人の軍隊

貿易統制

■キリスト教の禁止と貿易の統制

三代将軍・徳川家光は、キリスト教の禁止と貿易の統制を徹底させる方針をとった。

⇒^{えふみ}踏絵をおこなって、キリシタン（キリスト教徒）をとりしまった。

■^{しまばら}島原・^{あまくさ}天草一揆（1637年）

キリシタンの多かった島原（長崎県）と天草（熊本県）で一揆が起きた。

⇒ポルトガル船の来航禁止（1639年）



◀ 踏絵



◀ 島原・天草一揆

鎖国体制

■鎖国の完成

島原・天草一揆の後，幕府はオランダと清との貿易を認めた。
オランダとは長崎の出島で貿易をおこなった。

⇒このように，外国との交流を制限した政策のことを鎖国という。

※ 1644年に，中国では明に代わって清が誕生した。



▲ 出島



▲ 出島

一問一答

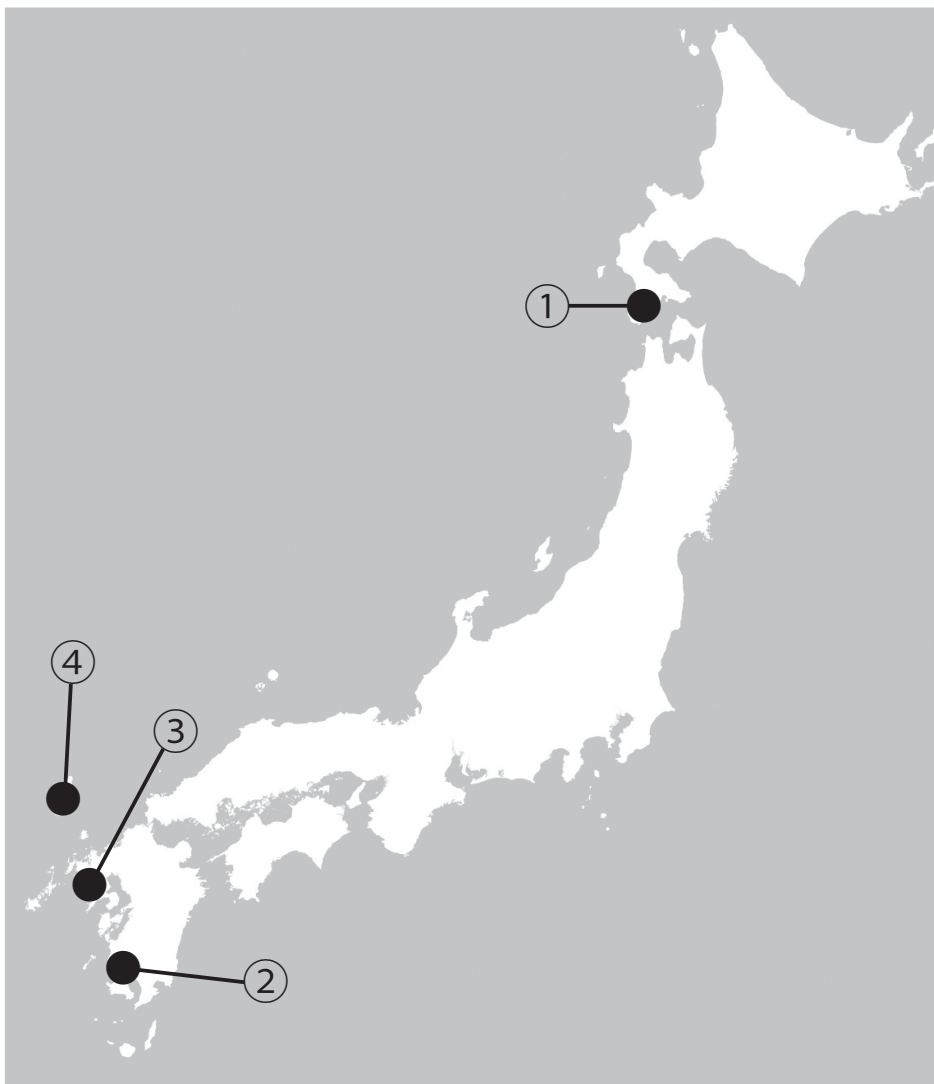
次の問いに答えなさい。

- (1) 徳川家康が推奨した貿易のことを何とというか、答えなさい。
- (2) 1637年に九州で起きた、キリシタンなどによる一揆のことを何とというか、答えなさい。

(1)	(2)
-----	-----

地図問題

(地図)



地図中の①～④の中から、
出島の位置を示しているもの
を一つ選びなさい。