

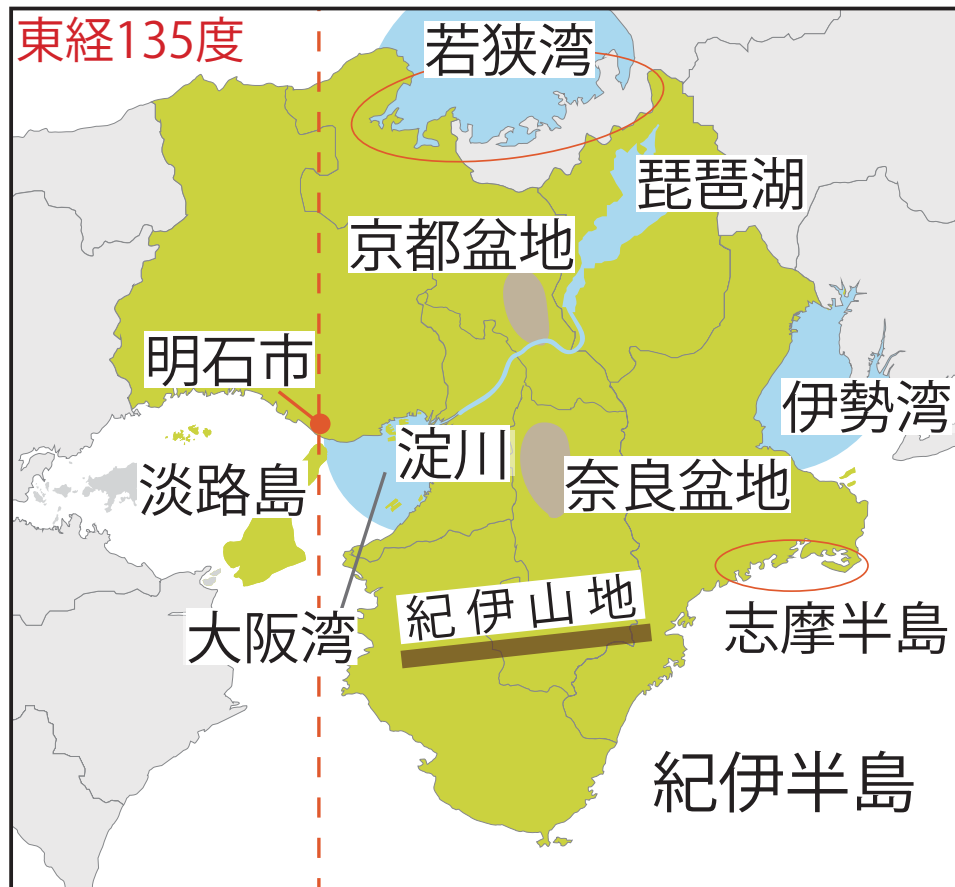
<学習内容>

- ▶自然環境
- ▶近畿地方の人々の生活

自然環境 ①

■ 海岸

わかさわん しま
若狭湾や志摩半島にはリアス海岸が発達している。



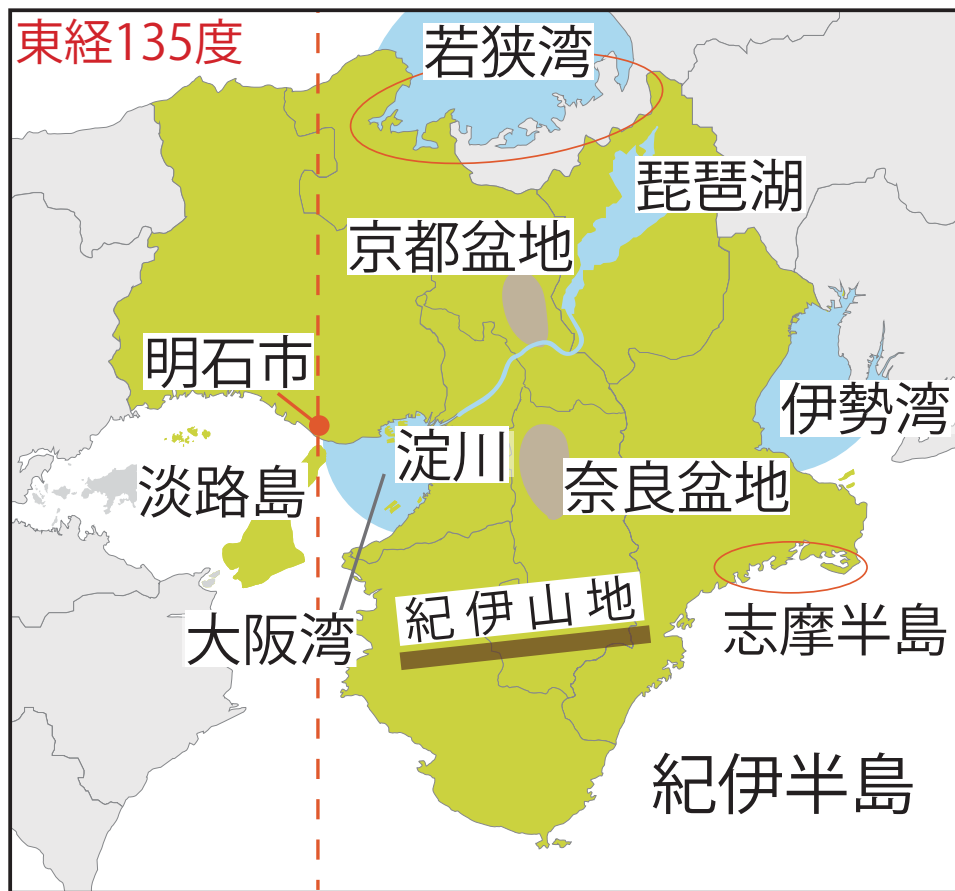
▼ リアス海岸



自然環境 ②

■山地

南部…けわしい^{きい}紀伊山地が広がる。



▲紀伊山地

自然環境 ③

湖と川

びわこ
琵琶湖…日本最大の湖。



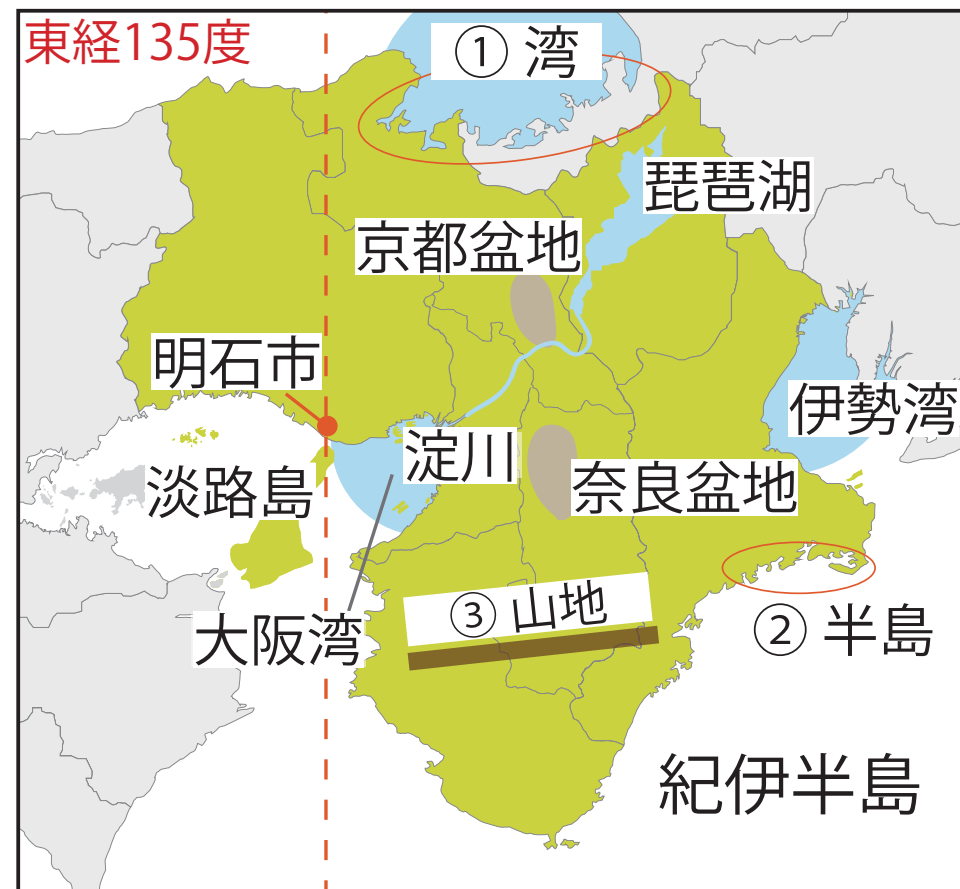
▲琵琶湖の葦



▲琵琶湖の魚市場

地図問題

地図中の①～③の地名を答えなさい。

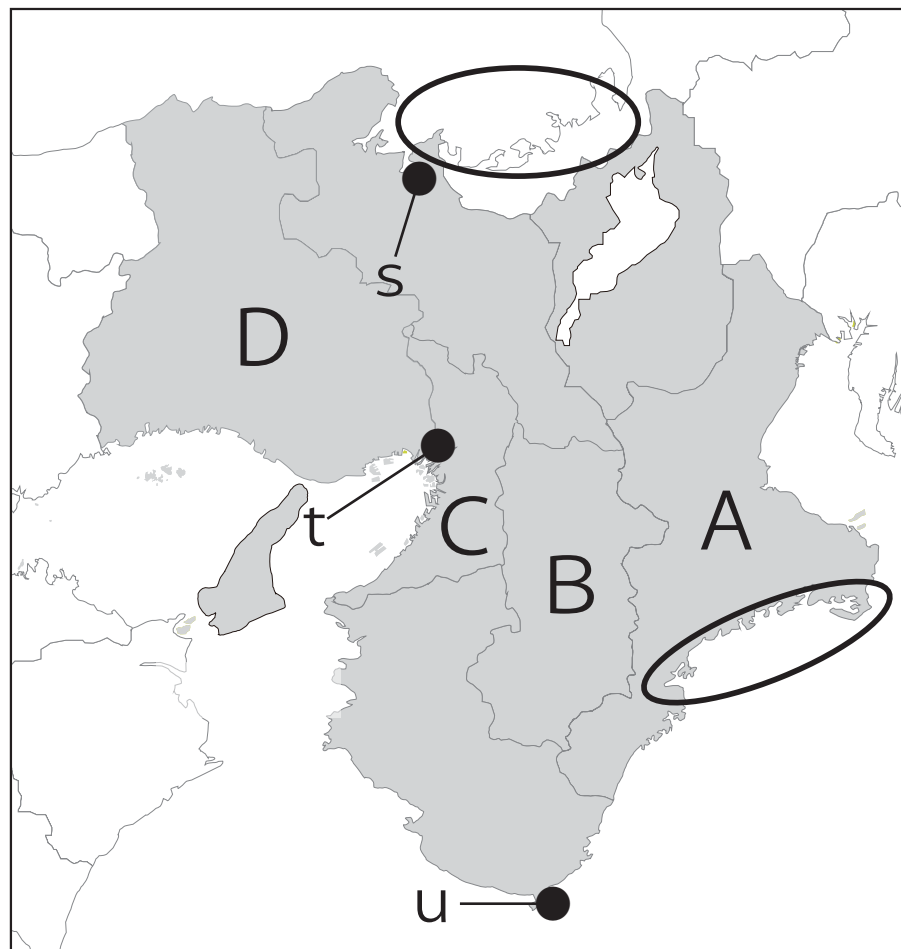


① 若狭 湾 ② 志摩 半島 ③ 紀伊 山地

入試問題（平成 28 年度 福島県公立高校入試問題・改）

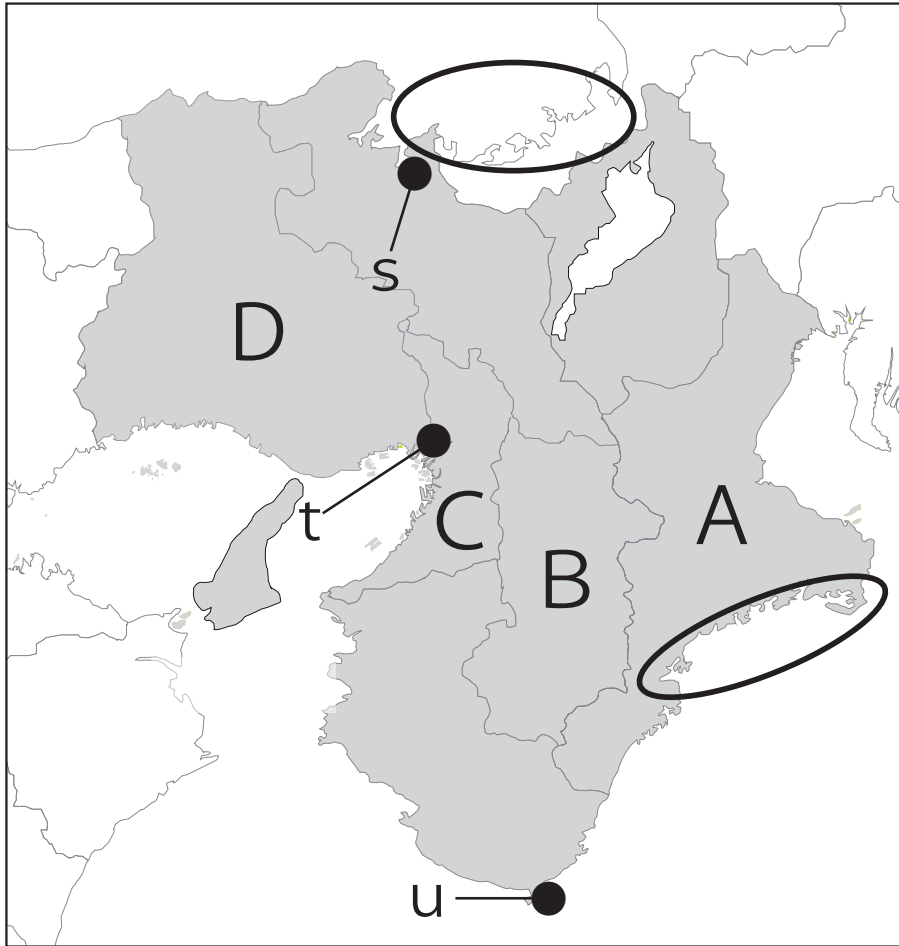
次の問いに答えなさい。

- (1) 日本の標準時子午線が通る府県を地図の A～D の中から一つ選びなさい。



D

(2) 地図の○で示した地域にみられる、小さな岬と湾が繰り返す複雑に入り組んだ海岸をなんというか。書きなさい。



リアス海岸

近畿地方の人々の生活

■大都市圏

大阪を中心に神戸や京都などを**大阪大都市圏（京阪神大都市圏）**という。

⇒都市の中心部ではなく郊外に住み、そこから通勤・通学する人々もいる。



▲ 大阪の市街地



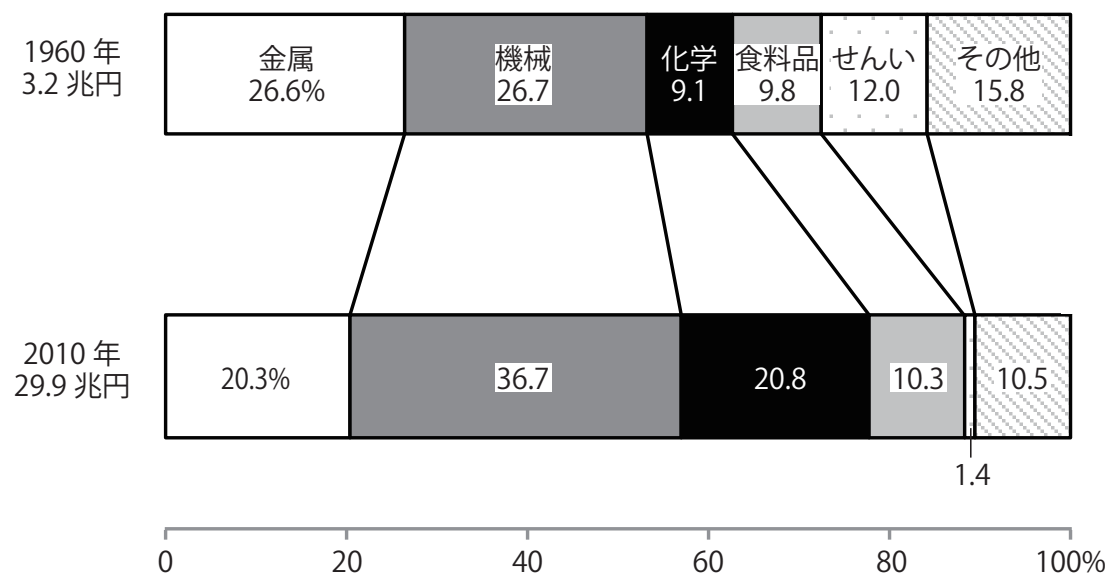
▲ 泉北ニュータウン



近畿地方の人々の生活

■ 阪神工業地帯

大阪市を中心にして広がる工業地帯を**阪神工業地帯**という。製鉄所や石油化学コンビナートなどの生産が中心である。一方で、先端技術産業を支える企業も存在する（ロケットの部品など）。



▲ 阪神工業地帯の生産額内訳の推移



▲ 阪神工業地帯