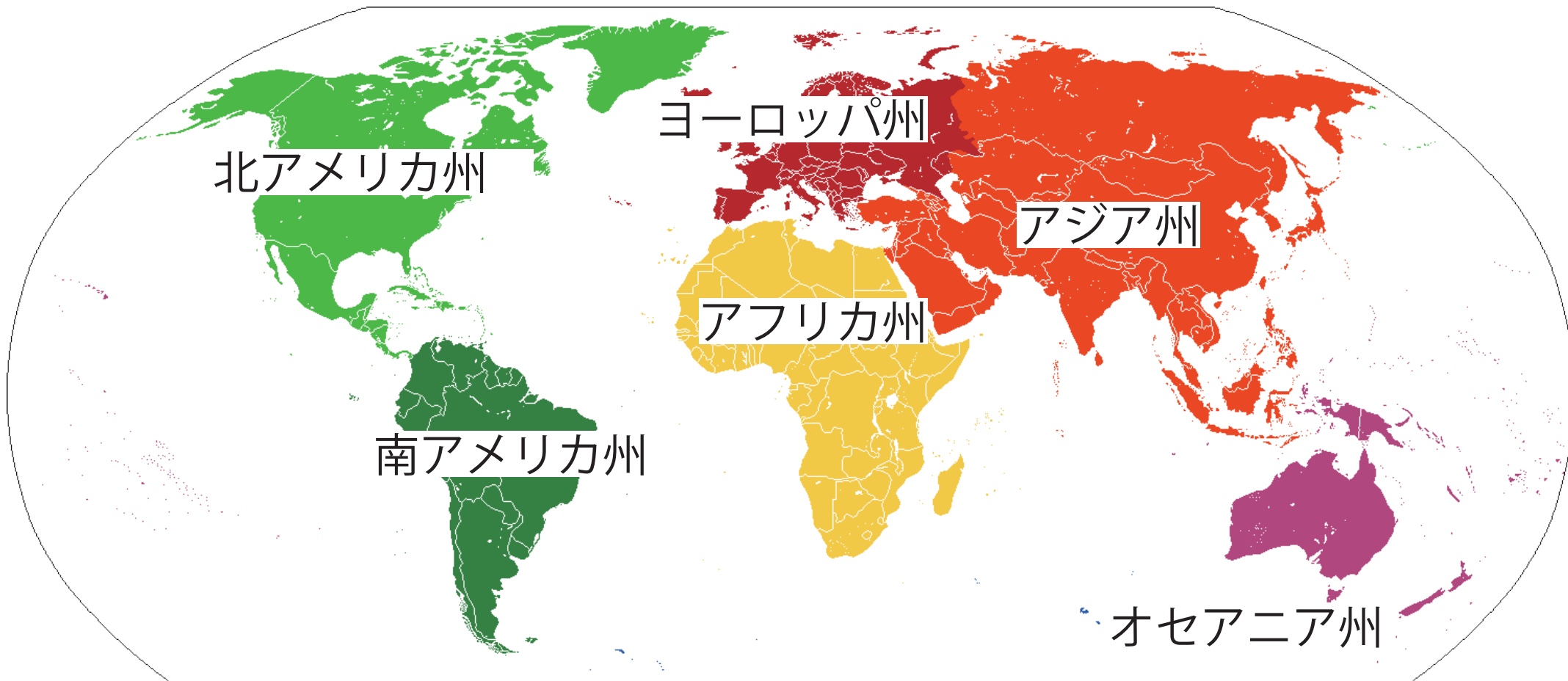


<学習内容>

- ▶北アメリカ州の国々
- ▶アメリカ合衆国の自然環境
- ▶アメリカ合衆国の農業
- ▶アメリカ合衆国の工業と資源
- ▶アメリカ合衆国の民族と歴史



北アメリカ州の国々



アメリカ合衆国の自然環境



▲ロッキー山脈



▲アパラチア山脈

- **ロッキー山脈**
標高が高く険しい山々が連なる。
- **アパラチア山脈**
標高が低い山々が連なる。石炭が産出される。



▲ミシシッピ川


アメリカ合衆国の農業

■自然環境に合わせた農業

アメリカ合衆国では、地域の気候などの環境に最適な作物を選んで農業を行なっている。



▲アメリカ合衆国の衛星写真




◀牛牧場



◀とうもろこし畑

アメリカ合衆国の農業（放牧と酪農）



▲牛牧場



▲酪農

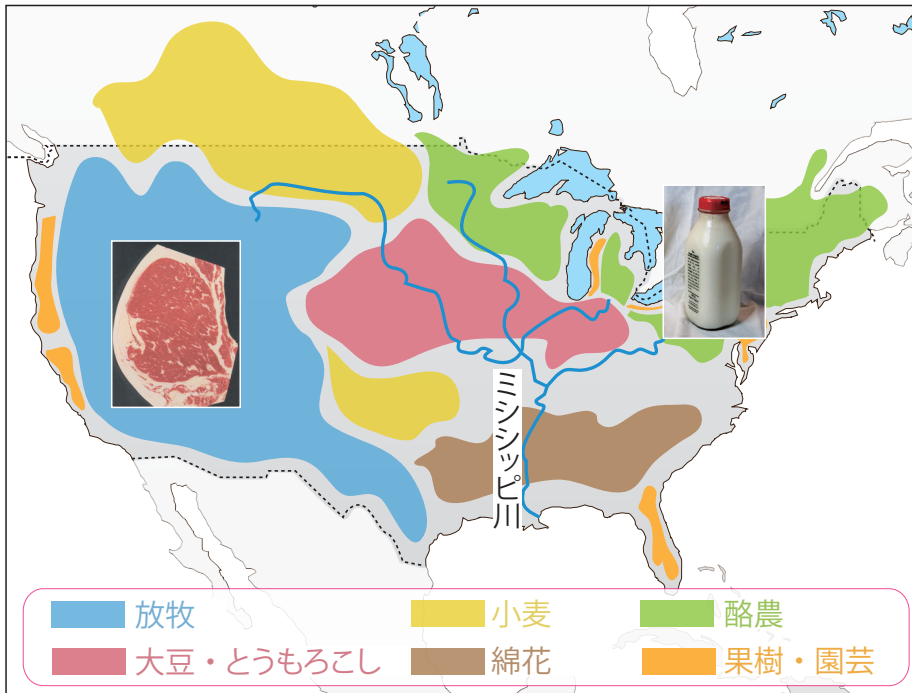


▲アメリカ中部の乾燥地帯



▲1月のニューヨーク

アメリカ合衆国の農業（とうもろこし）

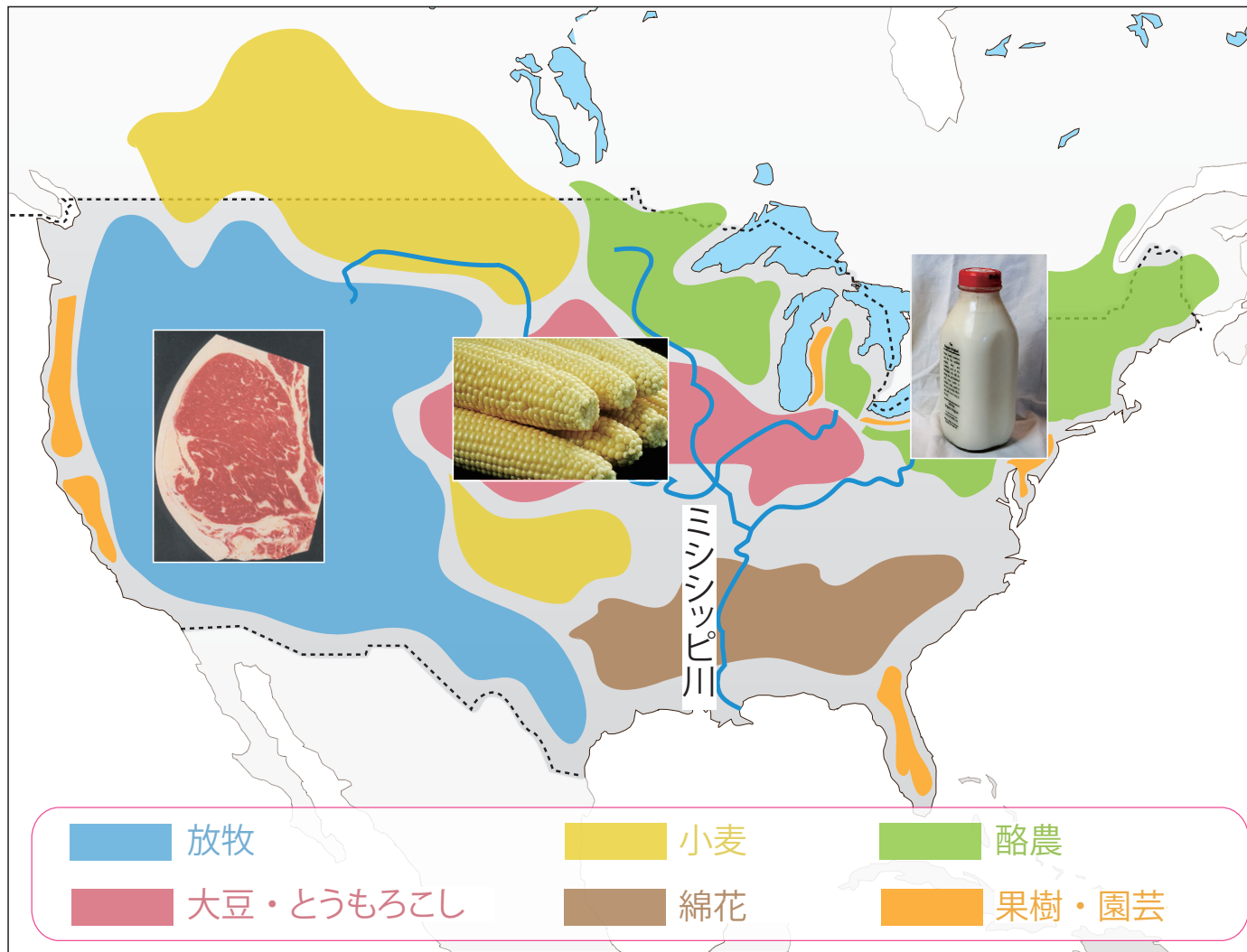


▲ とうもろこし畑



▲ 大型機械を使ったとうもろこしの収穫

アメリカ合衆国の農業（小麦）

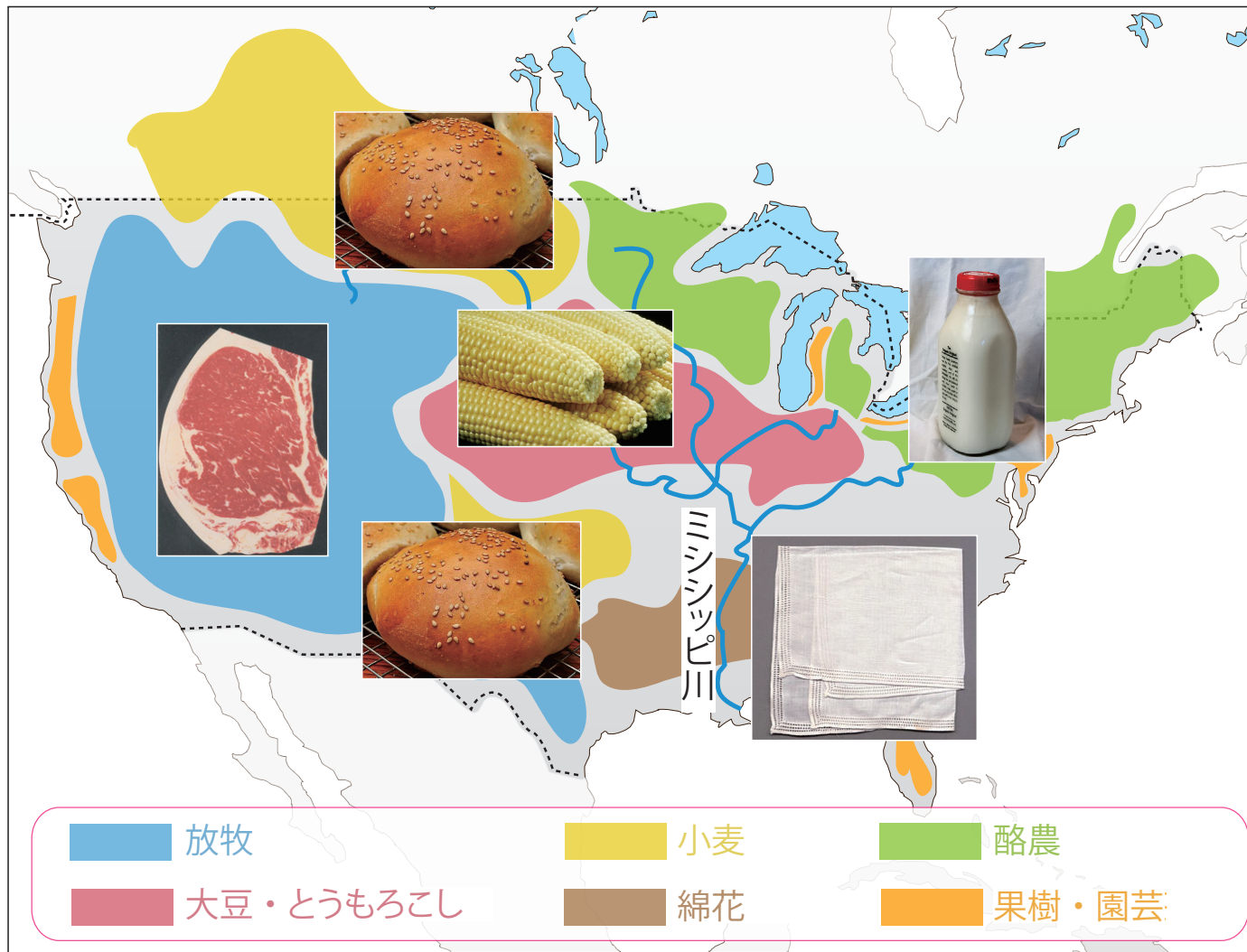


▲ 小麦畑



▲ 大型機械を使った小麦の収穫

アメリカ合衆国の農業（綿花）

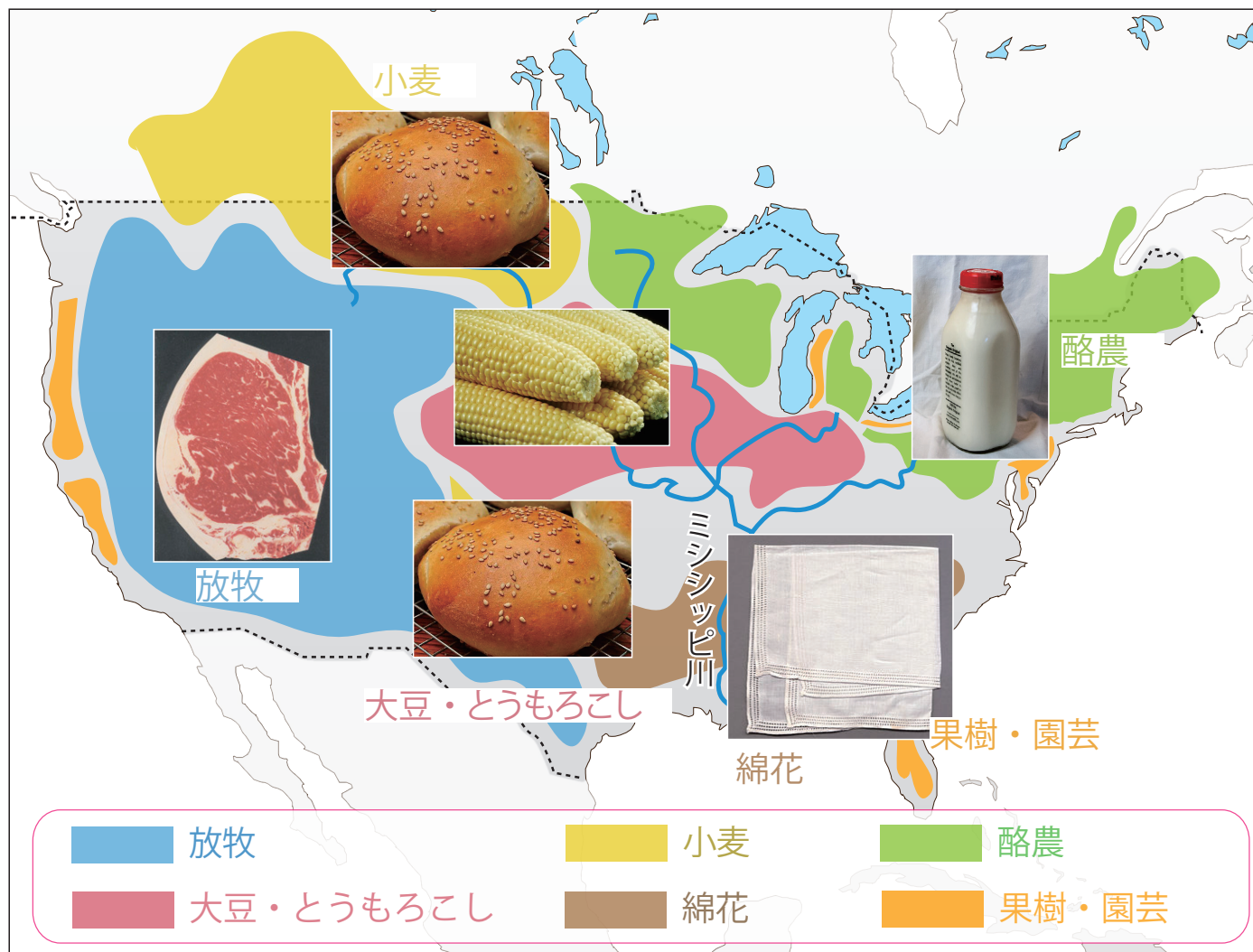


▲綿花畑



▲大型機械を使った綿花の収穫

アメリカ合衆国の農業



四択問題

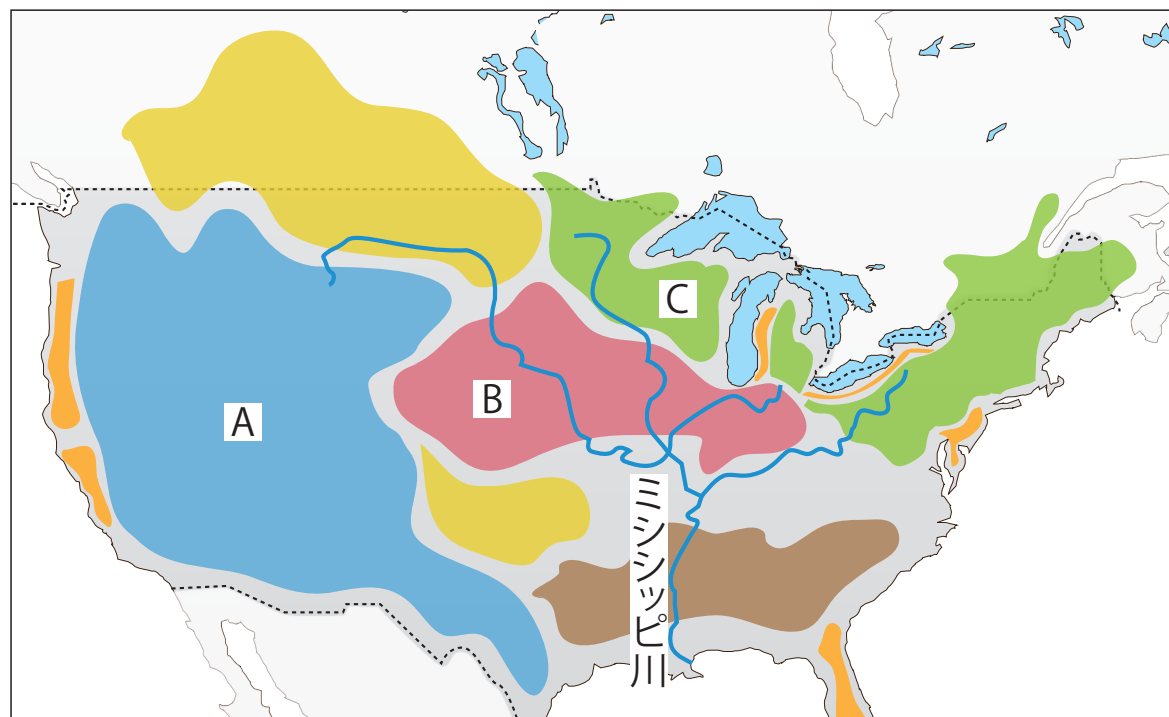
次の文は、アメリカ合衆国の自然環境について述べたものである。
() に当てはまる語句の組み合わせとして最も適当なものを
①～④の中から選びなさい。

アメリカ合衆国の東部には、標高が低い (A) 山脈が連なる。
(A) 山脈では、(B) がよく産出される。

- | | | |
|---|---------|------|
| ① | A—ロッキー | B—石炭 |
| ② | A—アパラチア | B—金 |
| ③ | A—ロッキー | B—石油 |
| ④ | A—アパラチア | B—石炭 |

地図問題

地図中の A ～ C の地域で主に行われている農業，また生産されている農作物は何か，①～⑥の中からそれぞれ選びなさい。



- ① 大豆・とうもろこし
- ② 酪農
- ③ 果樹・園芸
- ④ 小麦
- ⑤ 綿花
- ⑥ 放牧

A :

B :

C :

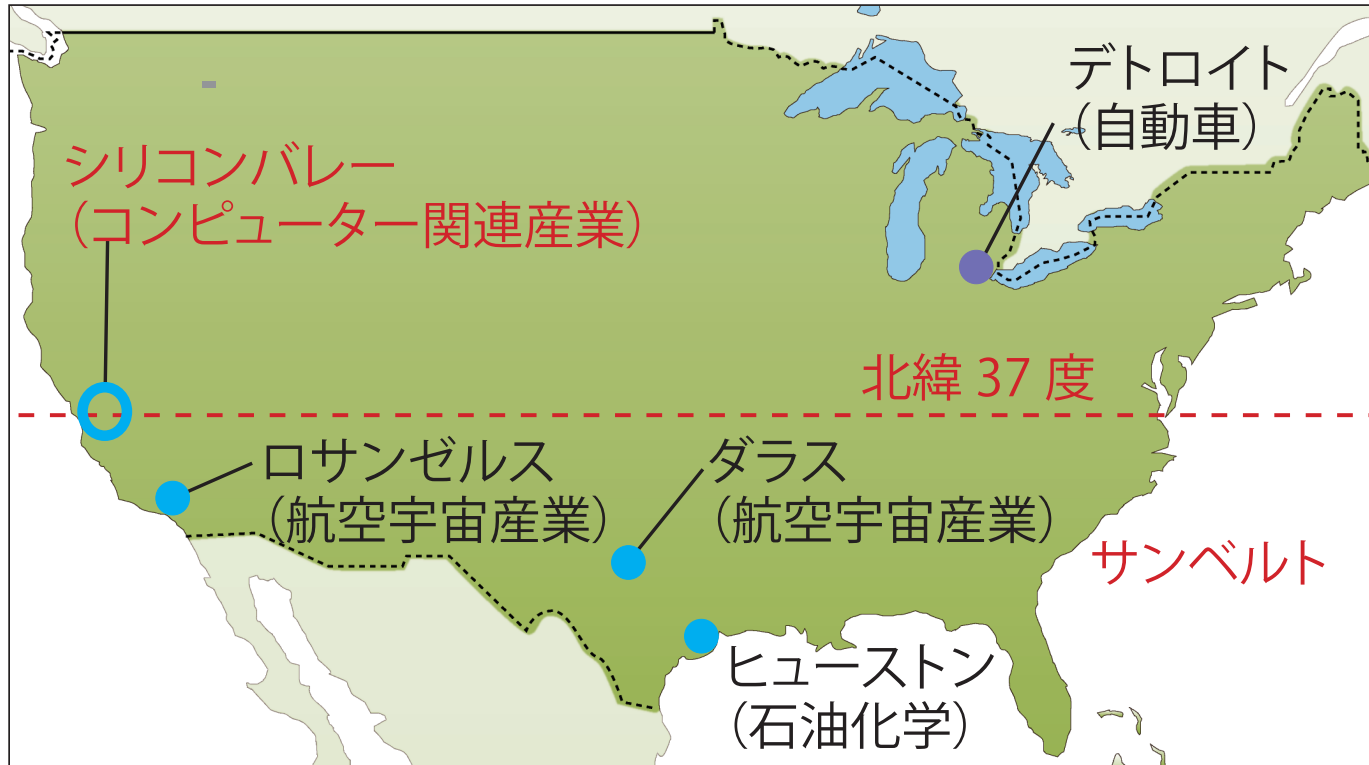
アメリカ合衆国の工業と資源

■アメリカ合衆国の主な工業都市と地域

アメリカの五大湖や大西洋岸の北部では、自動車産業や鉄鋼業が発達した。一方、北緯 37 度以南の南部はサンベルトとよばれ、コンピューターや航空機などのハイテク（先端技術）産業が発達している。

■資源と工業地帯の関係

メサビの鉄鉱石とアパラチア山脈の石炭が、五大湖の水運を利用して運ばれたことにより、五大湖周辺で自動車産業や鉄鋼業が発達した。メキシコ湾では石油がとれるので、メキシコ湾周辺で石油化学工業が発達した。



▲ヒューストン港の石油タンク

入試問題（平成 28 年度 大阪府公立高校入試問題・改）

アメリカ合衆国のサンフランシスコ郊外には、コンピュータや半導体関連の先端技術産業が集中している地域（地区）がある。この地域（地区）は、コンピュータや半導体関連の先端技術産業が集中していることから何と呼ばれているか。書きなさい。

北アメリカ州の民族と歴史

■北アメリカの様々な民族

- **ネイティブアメリカン**… もともと住んでいた先住民。
- ヨーロッパ系の白人 … **移民**としてやってきた。
- アフリカ系 … アフリカからつれてこられた。
- **ヒスパニック** … **スペイン語**を話す人々のこと。

▶ ネイティブアメリカン



▶ ヨーロッパ系



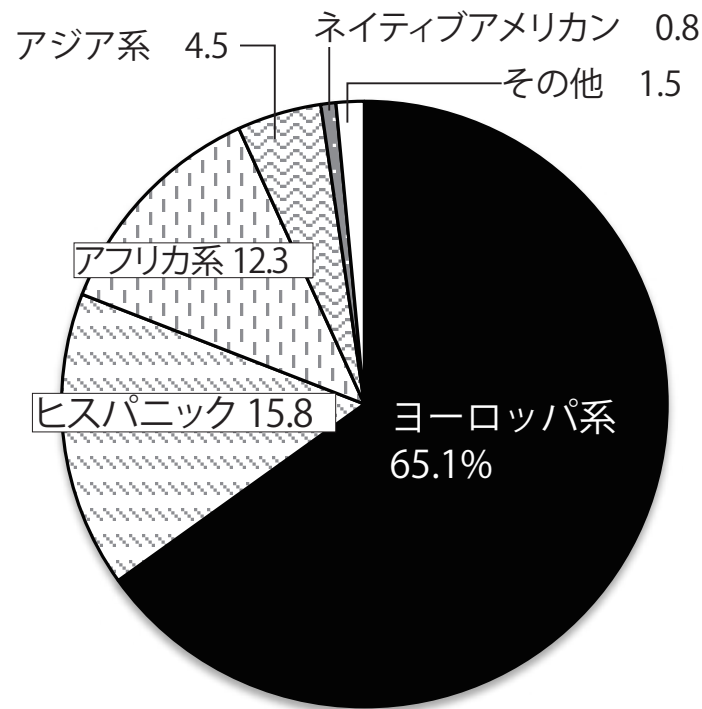
▶ アフリカ系



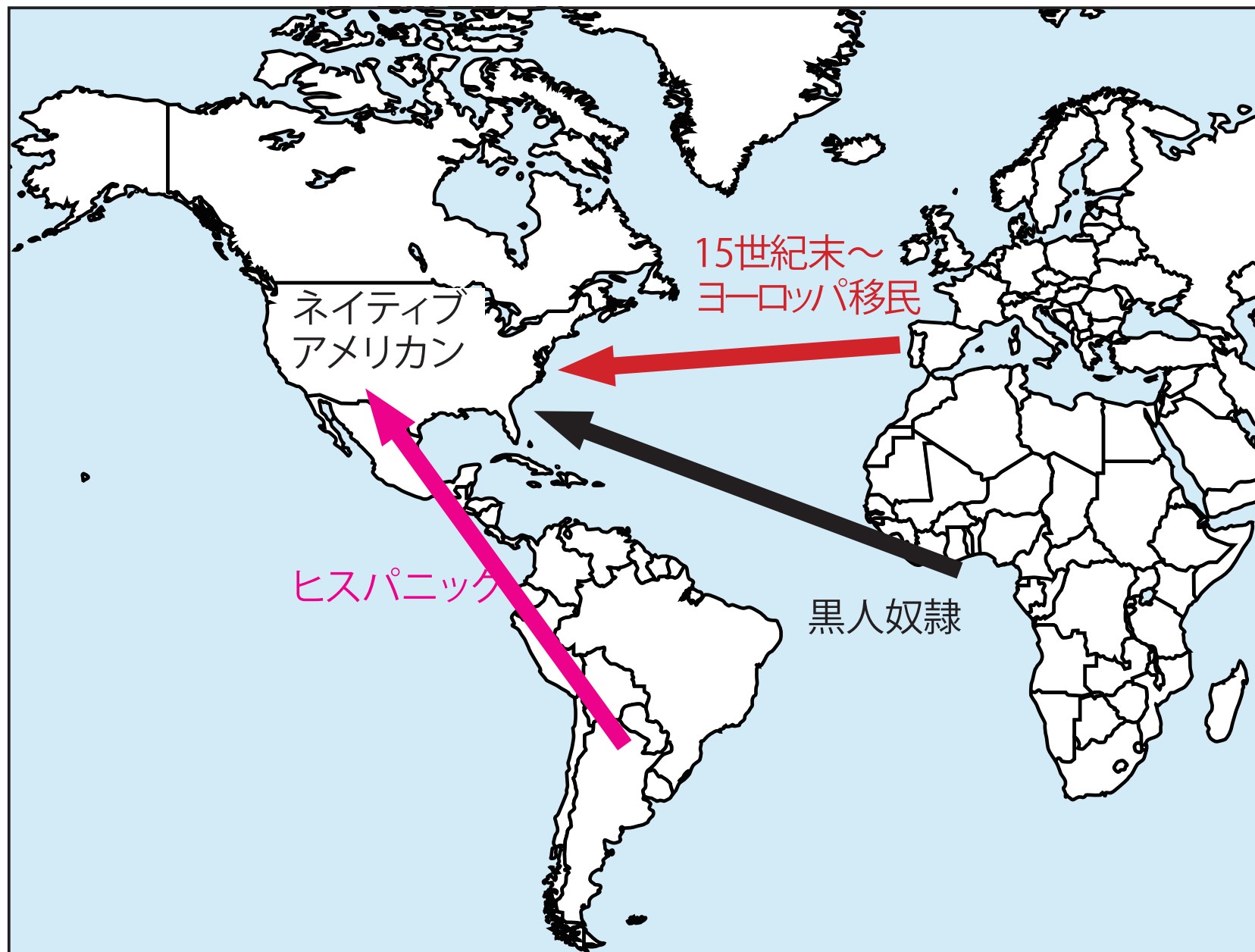
▶ ヒスパニック



▶ アメリカ合衆国の民族構成



■ヨーロッパ系 作者: Gage Skidmore 作品名: Aimee Teegarden by Gage Skidmore URL: http://commons.wikimedia.org/wiki/File:Aimee_Teegarden_by_Gage_Skidmore.jpg?uselang=ja CC-BY-SA
■ネイティブアメリカン 作者: DragonflyDC 作品名: WestStudi URL: <http://commons.wikimedia.org/wiki/File:WestStudi.jpg?uselang=ja> CC-BY-SA
■ヒスパニック 作者: Matt Billing 作品名: Mark Indelicato URL: http://commons.wikimedia.org/wiki/File:Mark_Indelicato.jpg?uselang=ja CC-BY-SA
■アフリカ系 作者: <http://www.flickr.com/people/damgar> 作品名: Kobe Bryant image 1 URL: http://commons.wikimedia.org/wiki/File:Kobe_Bryant_image_1.jpg?uselang=ja CC-BY-SA



四択問題

次の文の（ ）に当てはまる語句の組み合わせとして正しいものを①～④の中から一つ選びなさい。

（ A ）とは、メキシコなどから来た（ B ）語を話す人のことである。近年、彼らはアジア系の人々とともにアメリカ合衆国内で大きな影響力を与える重要な存在となっている。

- | | | |
|---|--------------|--------|
| ① | A—ネイティブアメリカン | B—スペイン |
| ② | A—ネイティブアメリカン | B—フランス |
| ③ | A—ヒスパニック | B—英語 |
| ④ | A—ヒスパニック | B—スペイン |