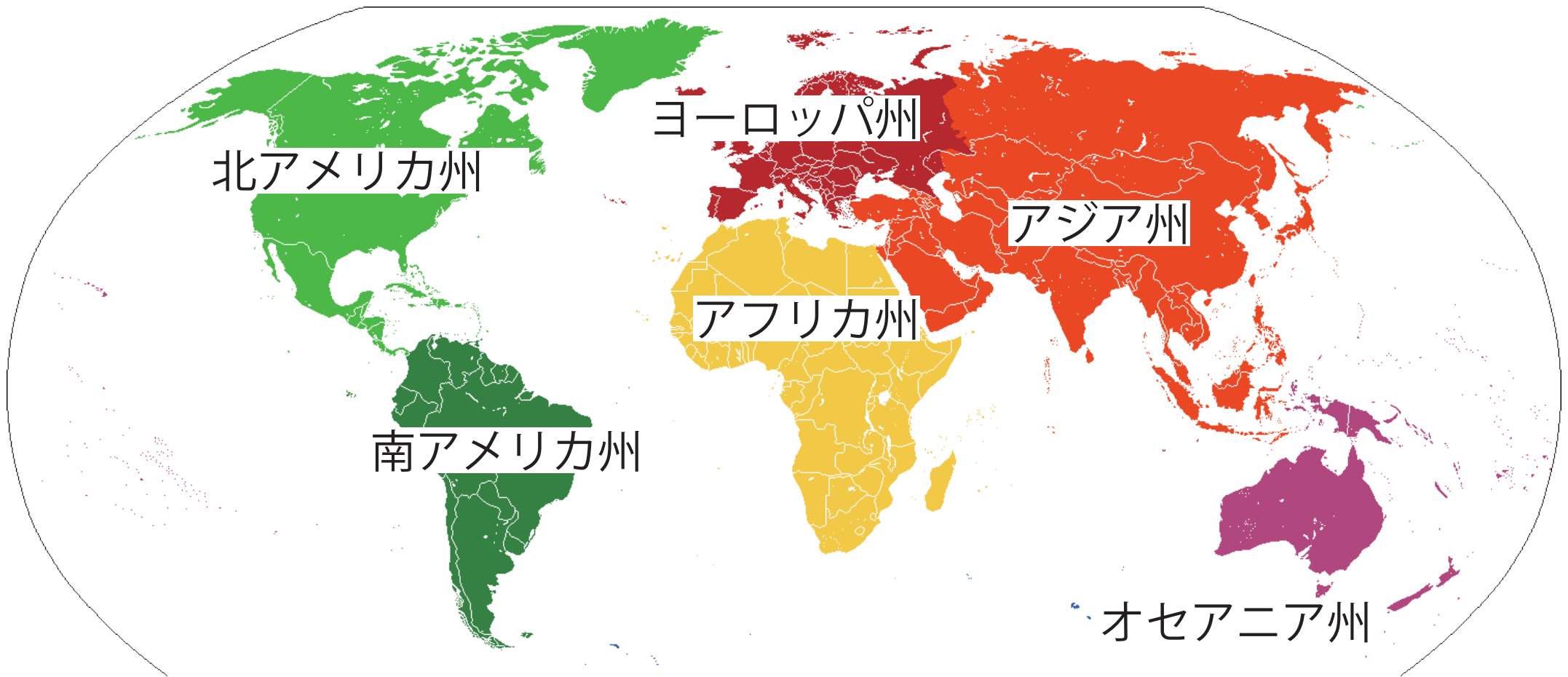


<学習内容>

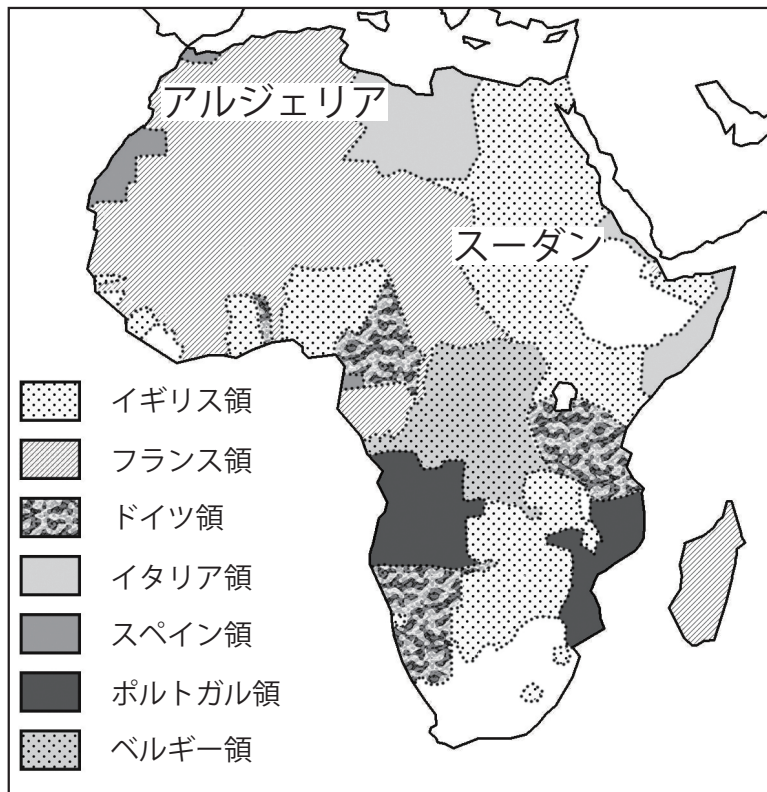
- ▶ アフリカの歴史
- ▶ アフリカ州の鉱山資源
- ▶ アフリカの農業
- ▶ アフリカ州の課題
- ▶ 地域統合と発展への取り組み



アフリカの歴史

■ ヨーロッパ人の進出

15世紀ごろからアフリカにヨーロッパ人が進出し、奴隷貿易を行った。また、19世紀までにアフリカのほとんどの地域がヨーロッパ諸国の**植民地**となった。



▲ 20世紀はじめのアフリカ



▲ アルジェリアを侵略するフランス軍



▲ スーダンを侵略するイギリス軍



▲ イギリス軍 (ナイル川)

アフリカの歴史

■植民地時代の影響

- ① 植民地時代にヨーロッパ諸国が引いた境界線が今の国境になっている。
- ② 植民地だった地域ではヨーロッパ諸国の言語が公用語となっている。



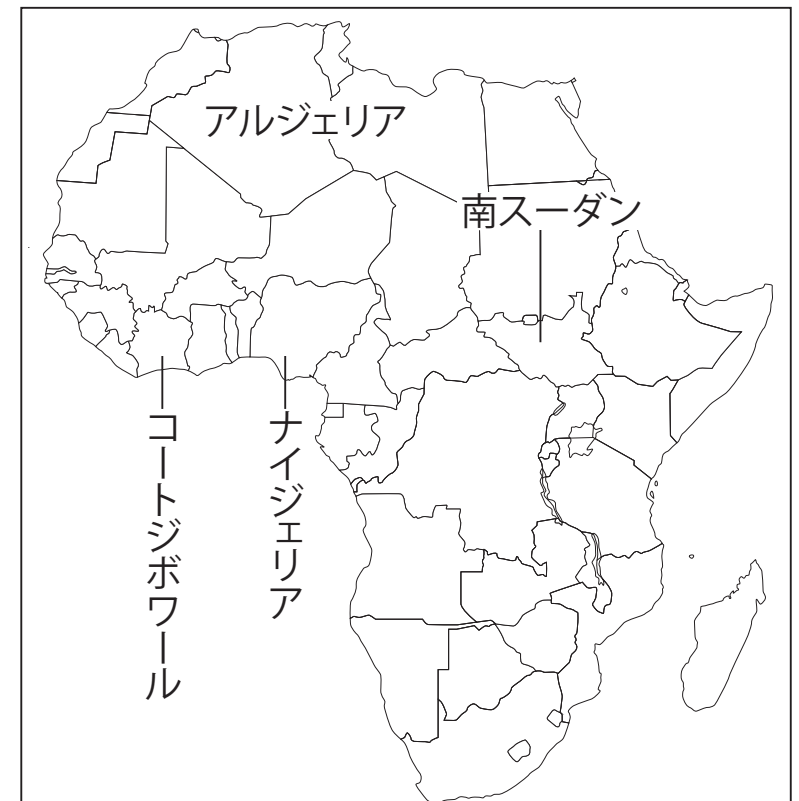
▲コートジボワールの新聞



▲南スーダンの看板



▲ナイジェリアの建物



■コートジボワールの新聞 作者: Zenman 作品名: Journaux ivoiriens URL: https://commons.wikimedia.org/wiki/File:Journaux_ivoiriens.JPG?uselang=ja CC-BY-SA

■南スーダンの看板 作者: Al Jazeera English 作品名: SPLA - Flickr - Al Jazeera English URL: https://commons.wikimedia.org/wiki/File:SPLA_-_Flickr_-_Al_Jazeera_English.jpg?uselang=ja CC-BY-SA

■ナイジェリアの建物 作者: Multiple 作品名: PH Montage URL: https://commons.wikimedia.org/wiki/File:PH_Montage.jpg?uselang=ja CC-BY-SA

四択問題①

次の文はアフリカの国々の特徴について述べたものである。
この文の(A),(B)にあてはまる言葉の組み合わせとして
最も適当なものを①～④の中から一つ選びなさい。

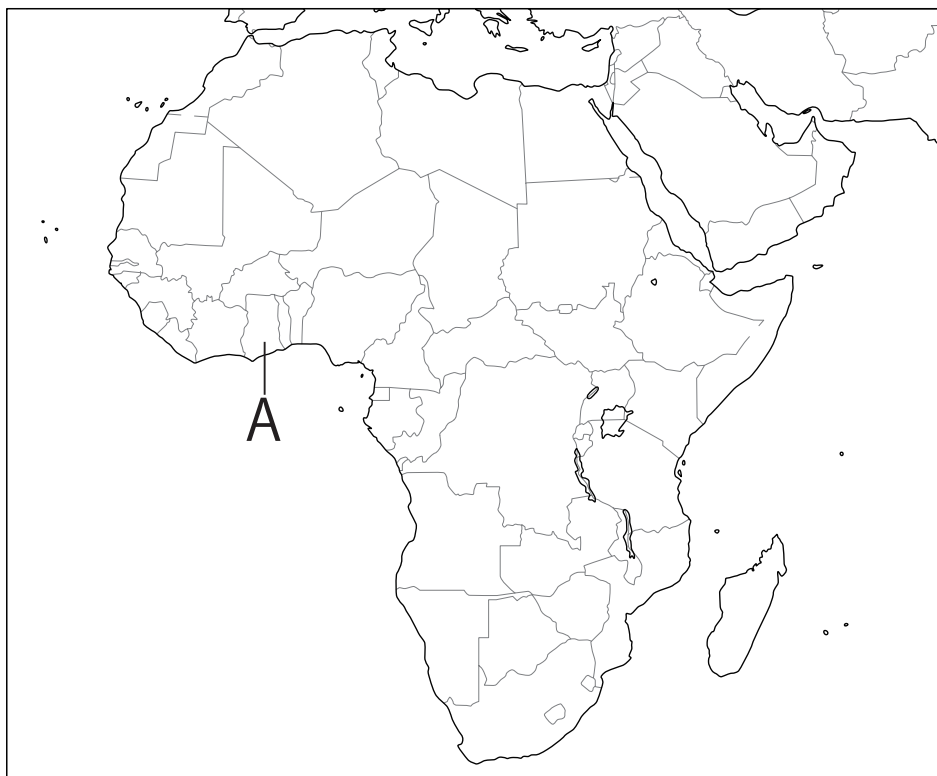
アフリカの多くの国では、かつてその国を植民地支配
していた国が使っていた(A)が使われている。
また、国境線がまっすぐなのは(B)からだ。

- ① A—国旗 B—自然にある川や山脈をもとにひいた
- ② A—言語 B—ヨーロッパ諸国が自分たちの都合でひいた
- ③ A—国旗 B—ヨーロッパ諸国が自分たちの都合でひいた
- ④ A—言語 B—自然にある川や山脈をもとにひいた

入試問題（平成 26 年度 山口県公立高校入試問題・改）

地図中の A 国では英語が公用語となっている。A 国で英語が公用語となっているのはなぜか，歴史的な背景をふまえて答えなさい。

(地図)



例：

アフリカ州の鉱山資源 ①

■豊富な鉱山資源

- ① **銅**：世界的にはチリ，中国，ペルー，アメリカ合衆国で多く産出される。
→アフリカではザンビア，コンゴ民主共和国など
- ② **金**：世界的には中国，オーストラリア，アメリカ合衆国で多く産出される。
→アフリカでは南アフリカ共和国，ガーナ，タンザニアなど
- ③ **ダイヤモンド**：世界的にはロシアとアフリカで多く産出される。
→アフリカではコンゴ民主共和国，ボツワナ，ジンバブエ，アンゴラ，南アフリカ共和国など。

アフリカ州の鉱山資源 ②

■近年注目される鉱山資源

- ① **希少金属（レアメタル）**：アフリカでは南アフリカ共和国などアフリカ大陸南部で産出される。
- ② **石油**：ナイジェリアなどアフリカ大陸北部で産出される。

四択問題②

希少金属（レアメタル）についての説明として、誤っているものを選びなさい。

- ① 世界的に生産量が少ないものの、携帯電話などの電子機器に多く使われる貴重な資源である。
- ② ナイジェリアなどのアフリカ大陸北部で産出される。
- ③ 南アフリカなどのアフリカ大陸南部で産出される。
- ④ 中央アジアでも産出されており、近年注目されている。


アフリカの農業




▲ コートジボワールの海岸



▲ カカオ豆



▲ ガーナの国立公園



▲ ナイジェリアの熱帯林

順位	国名	生産量(トン)
1	コートジボワール	約 144 万
2	ガーナ	約 83 万
3	インドネシア	約 77 万
4	ナイジェリア	約 36 万

▲ カカオ豆の生産量 (2013)

アフリカ州の課題

■モノカルチャー経済

アフリカの多くの国は、わずかな種類の農産物や鉱産資源の輸出にたよる経済となっている。これを、モノカルチャー経済という。モノカルチャー経済は、天候や景気により輸出品の価格が大きく変動する場合があるので、輸出品の数が少ないと安定した収入を得ることができないという問題がある。

■発展への課題

- ① 人口増加により、砂漠化や天候不順が起きると農産物の生産量が減少し、食料不足となる。
- ② 農地の拡大による森林や草原の減少、それにとともなう野生動物の減少などの環境問題も見られる。

記述問題

次の問に答えなさい。

- (1) アフリカの多くの国で見られるわずかな種類の農産物や鉱産資源の輸出にたよる経済を何というか。
- (2) (1)の経済の問題点を「輸出品の数が少ないため、」に続く形で答えなさい。

(1)	(2)
-----	-----