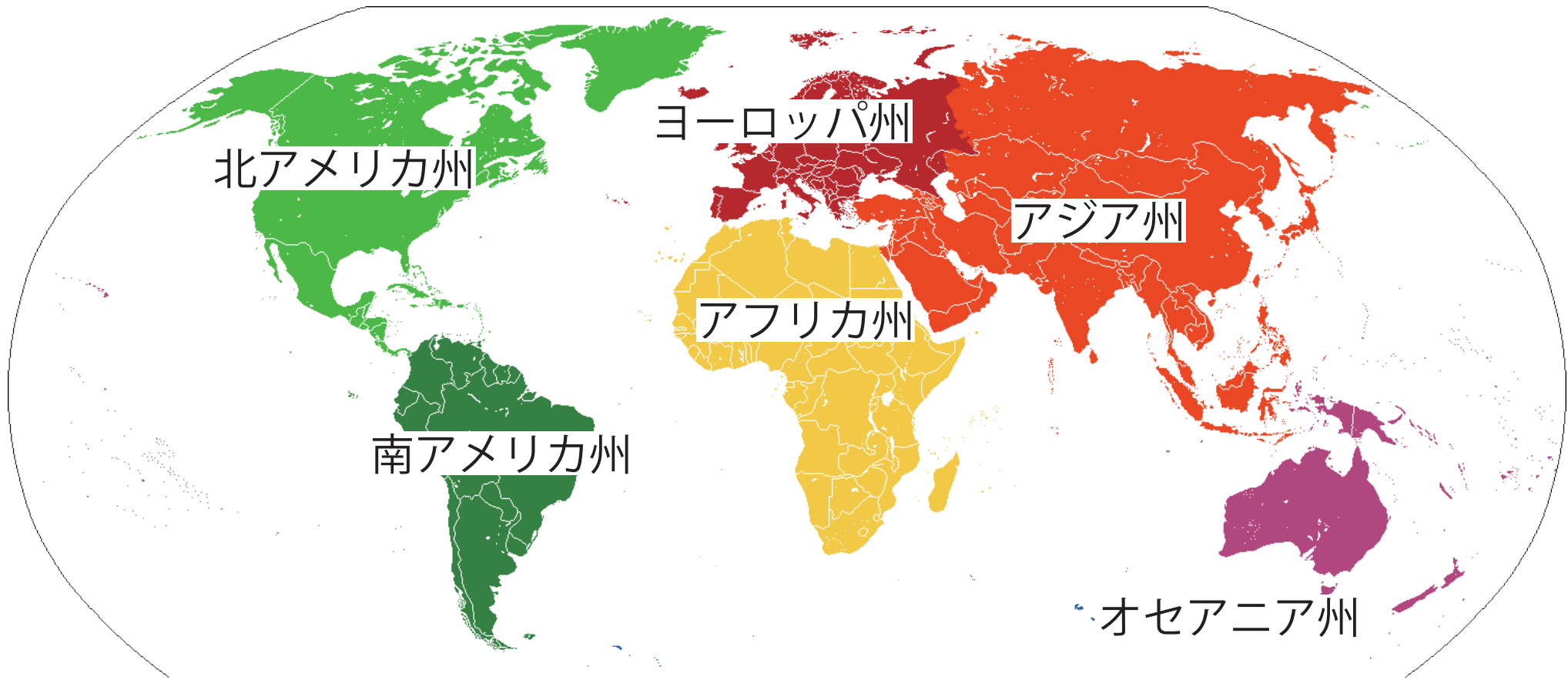


<学習内容>

- ▶ ヨーロッパの気候
- ▶ ヨーロッパの農業
- ▶ ヨーロッパの統合
- ▶ ヨーロッパの課題



北アメリカ州

ヨーロッパ州

アジア州

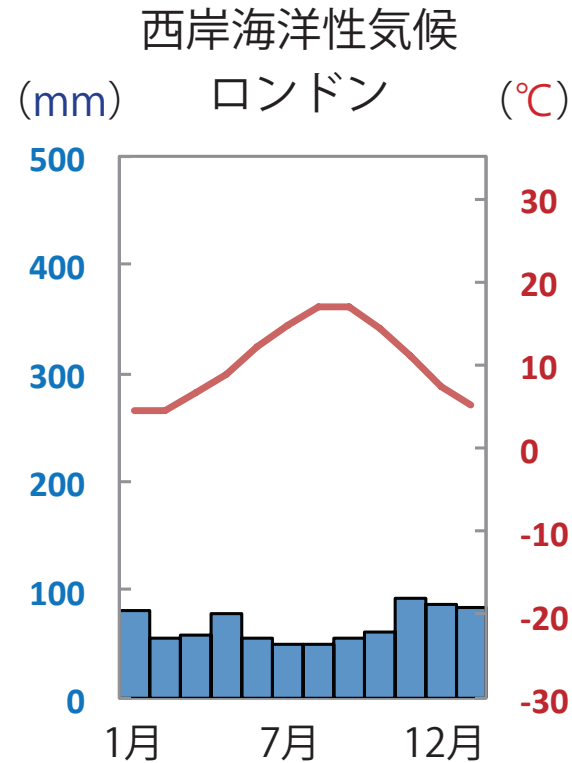
アフリカ州

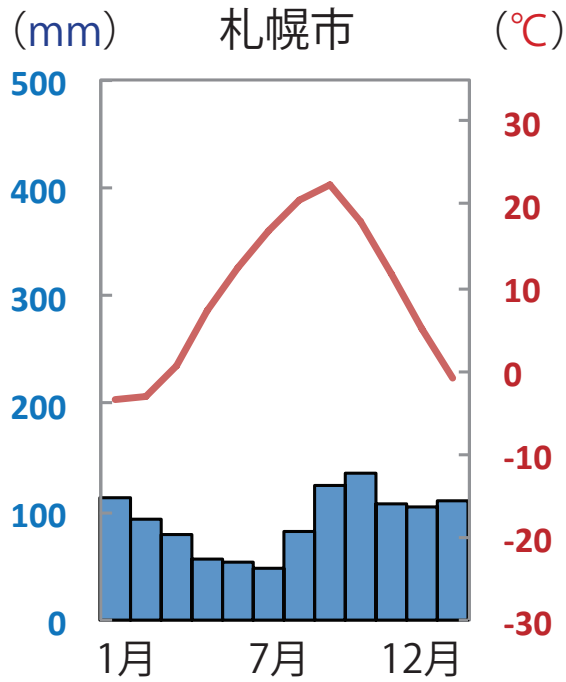
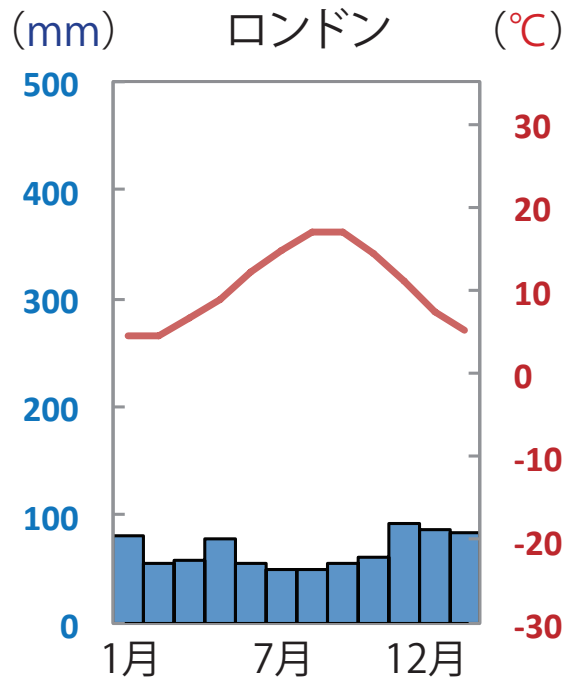
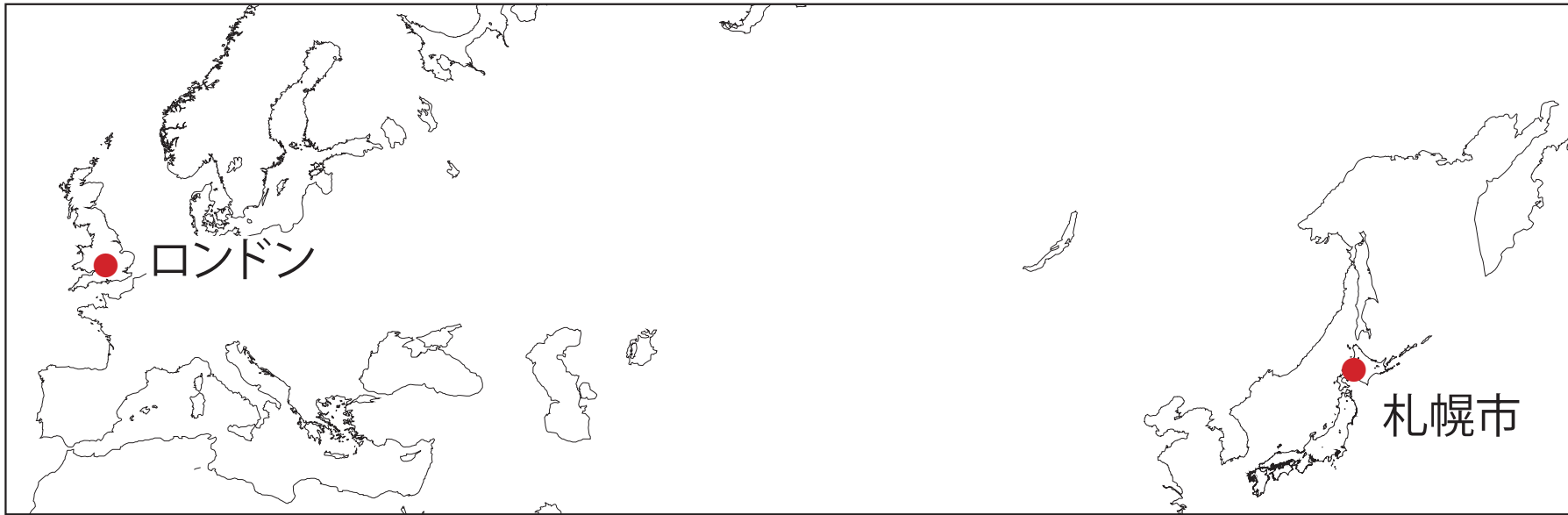
南アメリカ州

オセアニア州

ヨーロッパの気候 ①

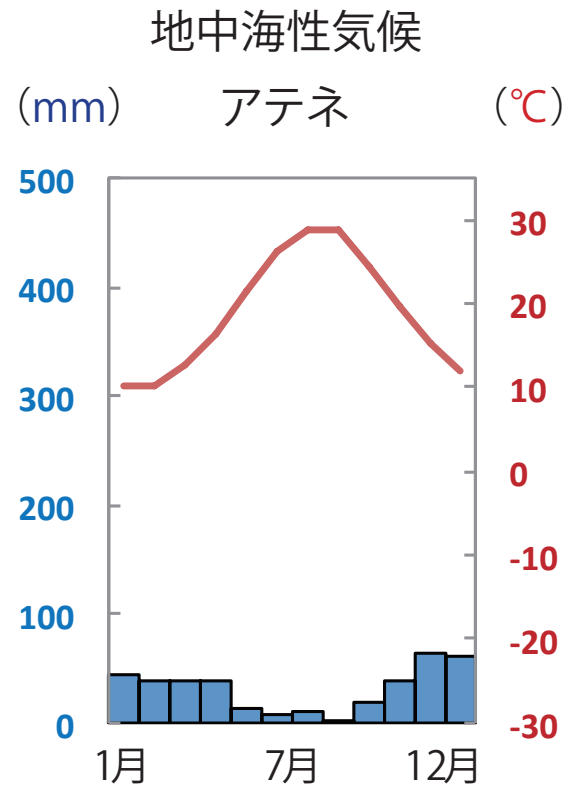
- 西岸海洋性気候：北大西洋海流（暖流）と偏西風の影響で、高緯度のわりに気温が高い。





ヨーロッパの気候 ②

- 地中海性気候：夏は高温で乾燥し，冬にわりと雨が多い。



▲ギリシア

ヨーロッパの農業 ①

- **地中海式農業**：夏の乾燥に強いオリーブやぶどう，小麦などを栽培する。



▲オリーブ畑



▲オリーブ



▲オリーブオイル



▲ぶどう畑（フランス南部）



▲ワイン

ヨーロッパの農業 ②

- **混合農業**：豚などの家畜の飼育と小麦などの栽培を組み合わせ
ておこなう。



▲小麦畑



▲フランスパン



▲ドイツのパン



▲ドイツビール



▶家畜



▶ソーセージ
(ドイツ)

ヨーロッパの農業 ③

- **酪農**：乳牛ややぎを飼育し、バターやチーズなどの乳製品を生産する。



▶ 牧場 (オランダ)



◀ オランダのチーズ市



▲ 乳製品を使ったデザート (デンマーク)

四択問題①

フランス中部やドイツなどでおこなわれている農業について述べたものとして、最も適当なものを1つ選びなさい。

- ① 乳牛を飼い、生乳やチーズ、バターの生産がおこなわれている。
- ② 小麦やライ麦、じゃがいもなどを栽培し、豚や牛の飼育がおこなわれている。
- ③ 降水量が多く、暖かいので稲作がさかんである。
- ④ リヤマやアルパカの放牧をおこない、じゃがいもやとうもろこしなどを栽培している。

②

入試問題（平成 28 年度 埼玉県公立高校入試問題・改）

ローマが属する地中海性気候の景観として最も適切なものを，資料中のア～エの中から選び，その記号を書きなさい。





ア. オリーブの栽培



イ. 高山でのアルパカの放牧



ウ. 高床式の家



エ. 針葉樹の森



進むヨーロッパの統合

■ EU(ヨーロッパ連合)の結成

1993年に、経済や政治面での統合を目指してEU(ヨーロッパ連合)が結成された。



▲ EUの旗



進むヨーロッパの統合

■ EU 結成の理由

- ①ヨーロッパの国々は面積や人口が小さく、アメリカなどの大国との競争に勝てないから。
- ②二度とヨーロッパで戦争を起こさないようにするため。

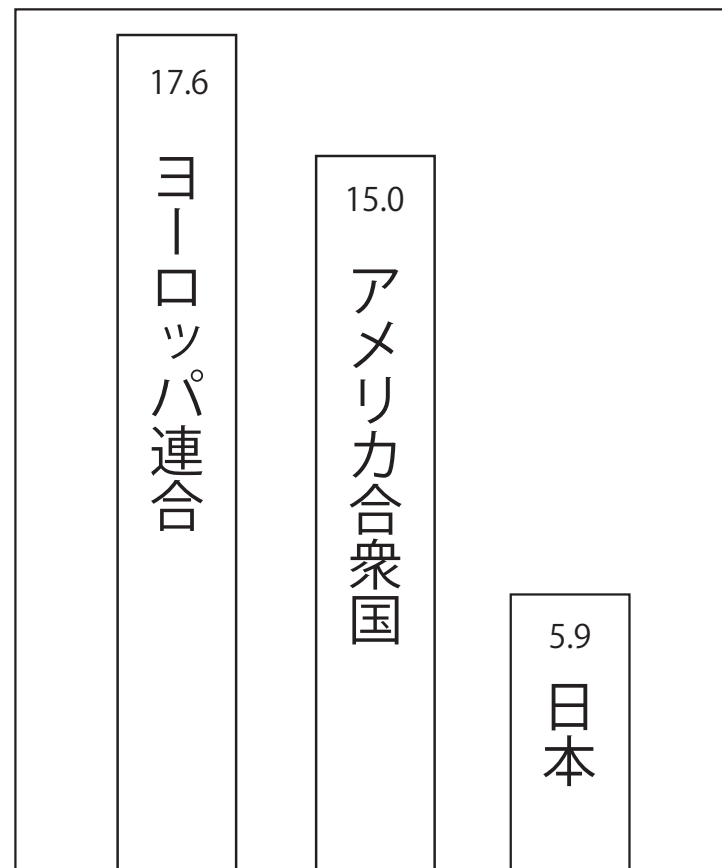


▲第一次世界大戦 (1914)



▲第二次世界大戦 (1939)

単位:兆ドル



▲ EU, アメリカ, 日本の GDP の比較 (2011年)

進むヨーロッパの統合

■ EU について


- EU 内では**ユーロ**という共通通貨が使える。
- 航空機などの開発・製造を各国で共同して行う。
- 多くの EU 加盟国間では、国境でパスポートの検査がなく、自由に国境を通過することができる。



▲ユーロ



▲ユーロファイター・タイフーン



▲オランダ・ベルギーの国境

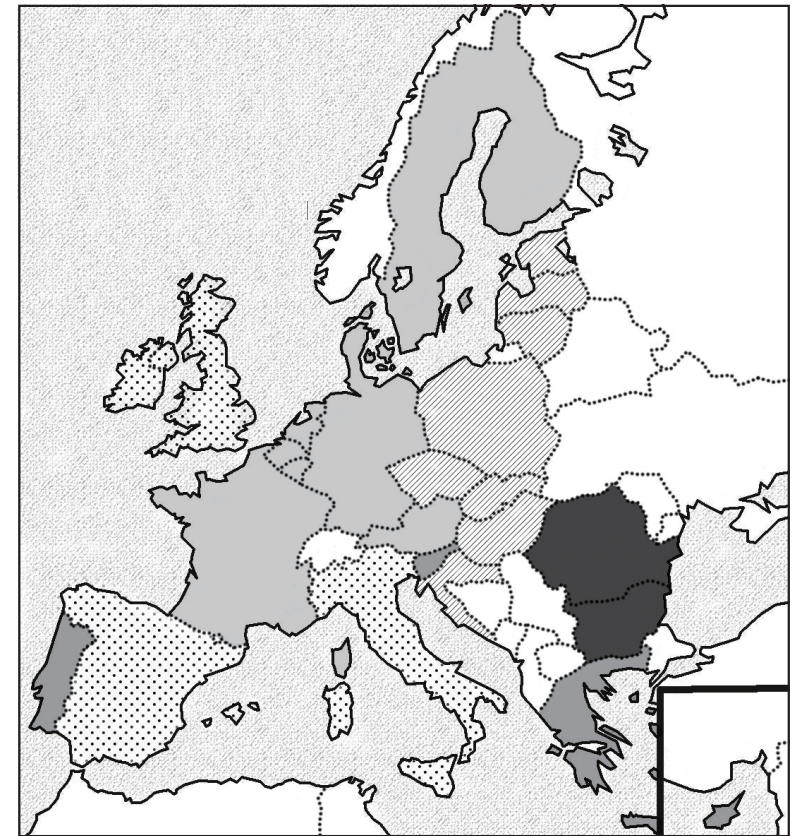
ヨーロッパの課題

■ EU の課題

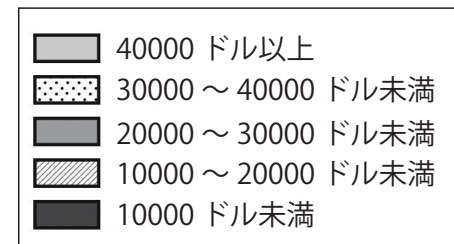
近年，東ヨーロッパ諸国が EU に加盟するようになった。

これらの国々は，工業化が遅れているので所得が低い。

一方で，もともと EU に加盟していた西ヨーロッパ諸国は比較的所得が高く，東ヨーロッパ諸国との**経済格差**（**域内格差**）が問題となっている。



◀ EU 各国の一人あたりの国民総所得



西ヨーロッパ



▲パリ①



▲パリ②

東ヨーロッパ



▲ルーマニア



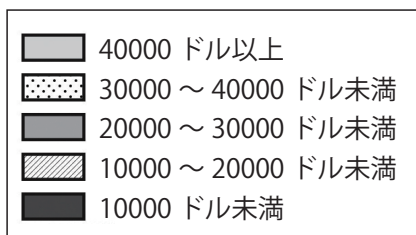
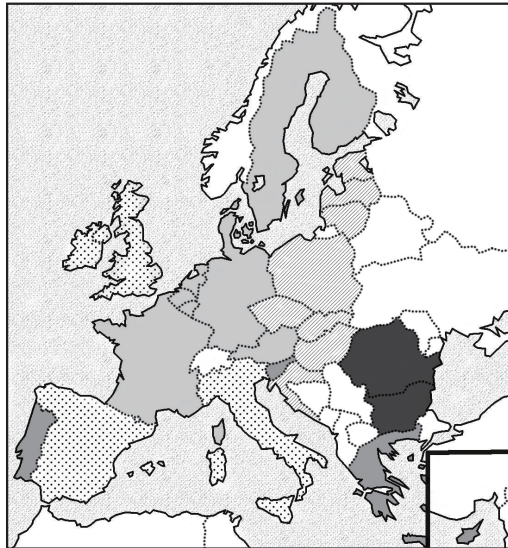
▲ギリシア

■ギリシア 作者: Philly boy92 作品名: 2010-2011 Greek protests collage URL: https://commons.wikimedia.org/wiki/File:2010-2011_Greek_protests_collage.png?uselang=ja CC-BY-SA
■ルーマニア 作者: giorgio 作品名: Craiova, Romania: slum URL: <https://www.flickr.com/photos/7341255@N05/2489587049> CC-BY-SA
■パリ① 作者: Benh LIEU SONG 作品名: Champs Elysees Paris Wikimedia Commons URL: https://commons.wikimedia.org/wiki/File:Champs_Elysees_Paris_Wikimedia_Commons.jpg CC-BY-SA
■パリ② 作者: Yves Lorson 作品名: La Rotonde-2 URL: https://ja.wikipedia.org/wiki/%E3%83%A2%E3%83%B3%E3%83%91%E3%83%AB%E3%83%8A%E3%82%B9#/media/File:La_Rotonde-2.jpg CC-BY-SA

四択問題②

資料は、EU 各国の一人あたりの国民総所得を示している。この資料からわかる EU の課題として最も適当なものを次の①～④の中から1つ選びなさい。

(資料)

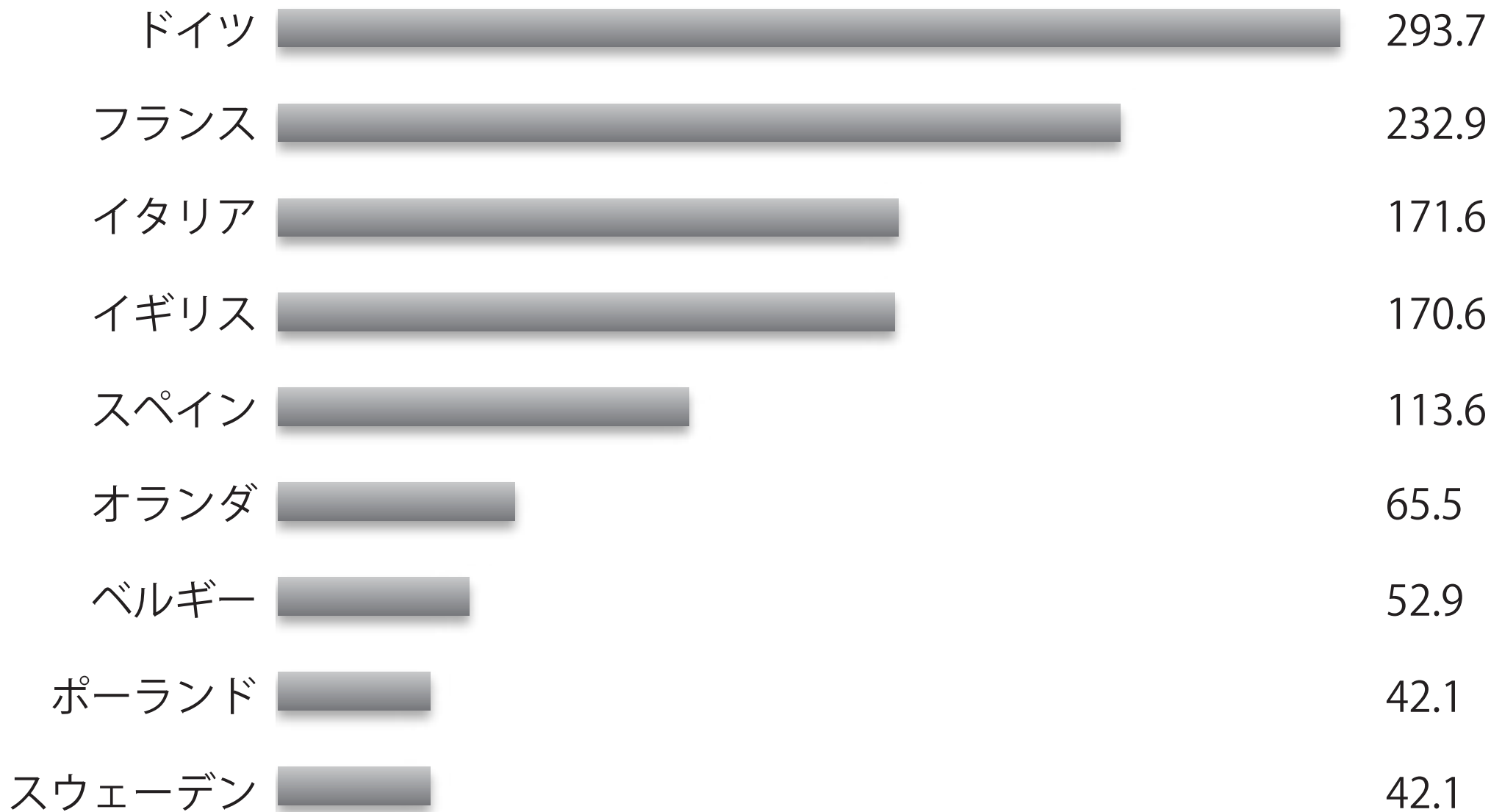


- ① 内陸部と沿岸部の間での経済格差。
- ② 宗教対立による戦争。
- ③ 西ヨーロッパと東ヨーロッパの間での経済格差。
- ④ 酸性雨による自然破壊。

③

加盟国が EU に支払う金額（2013 年度）

億ユーロ



EU が加盟国に支払う金額（2013 年度）

