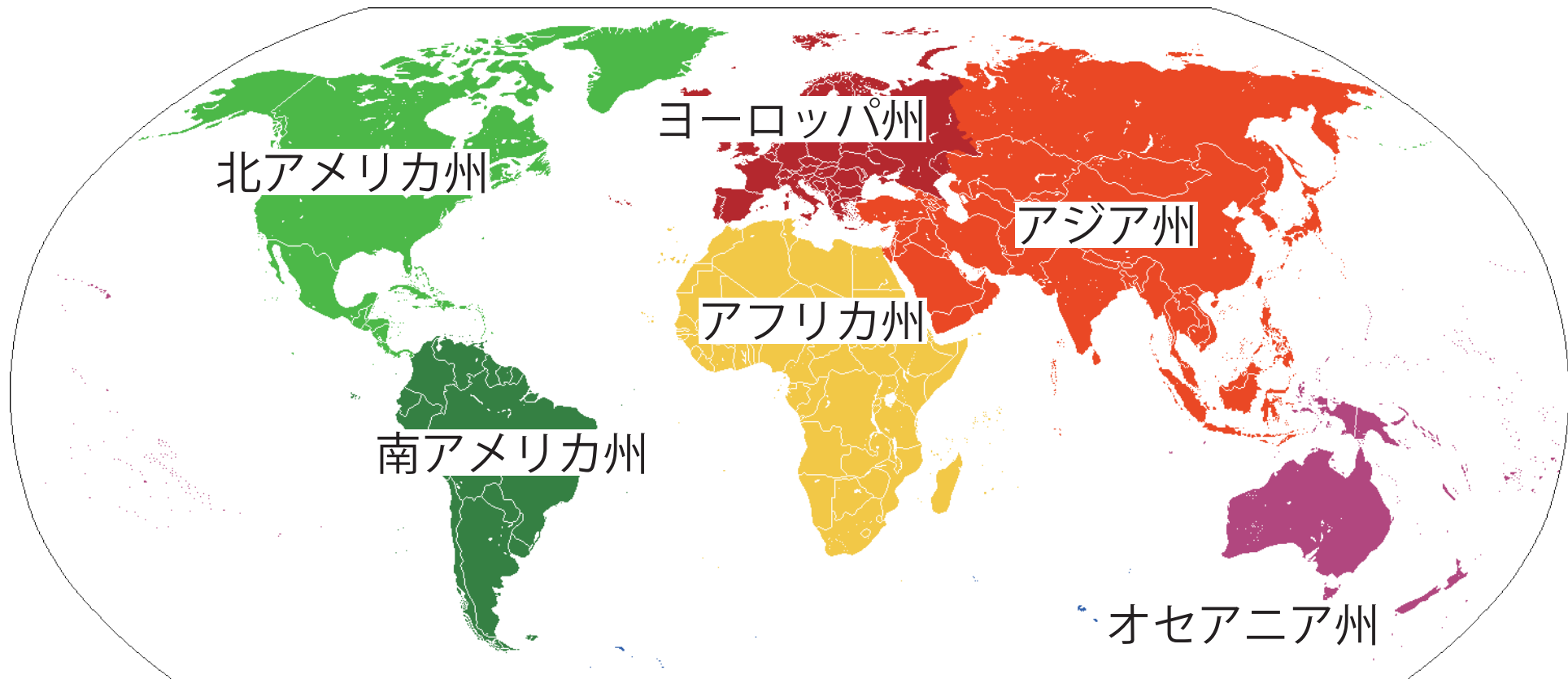


<学習内容>

- ▶中国の気候と農業
- ▶中国の経済
- ▶東南アジアの食事
- ▶東南アジアの農業
- ▶インドの気候と農業
- ▶西アジアの宗教
- ▶西アジアの経済



北アメリカ州

南アメリカ州

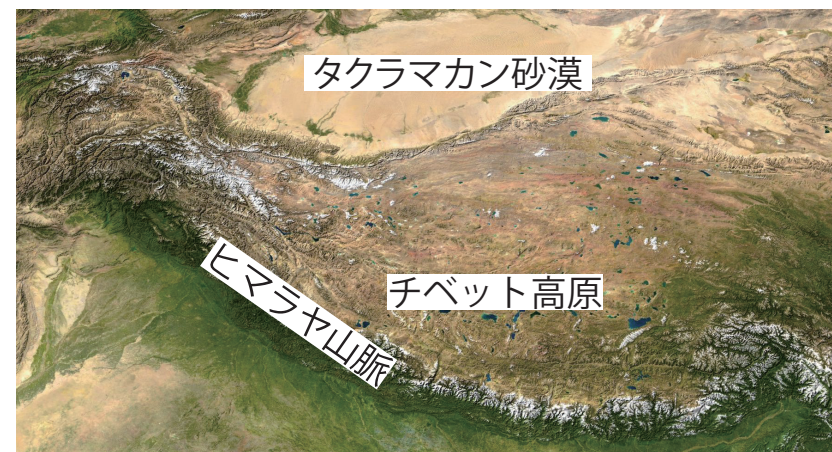
ヨーロッパ州

アフリカ州

アジア州

オセアニア州

中国の気候と農業



▲中国西部の衛星写真

中国の気候と農業

■内陸部

北部や西部の内陸部では、乾燥帯が多く、冷帯に属する地域もある。このような地域では、乾燥に強い羊やらくだを飼育する**ぼくちく**牧畜がおこなわれている。



▲牧畜



▲中国西部の市場

羊毛の生産量上位3カ国 (2014)		
	国名	生産量 (1,000t)
1位	中国	477
2位	オーストラリア	350
3位	ニュージーランド	154

中国の気候と農業

■沿岸部

南部では、雨がたくさん降り、気温も高いので、**稲作**がおこなわれている。北部の黄河流域は降水量があまり多くないので、小麦などの畑作がおこなわれている。



▲中国北部の平原

米の生産量上位3カ国 (2014)		
	国名	生産量 (1,000t)
1位	中国	206,507
2位	インド	157,200
3位	インドネシア	70,846

小麦の生産量上位3カ国 (2014)		
	国名	生産量 (1,000t)
1位	中国	126,208
2位	インド	95,850
3位	ロシア	59,711

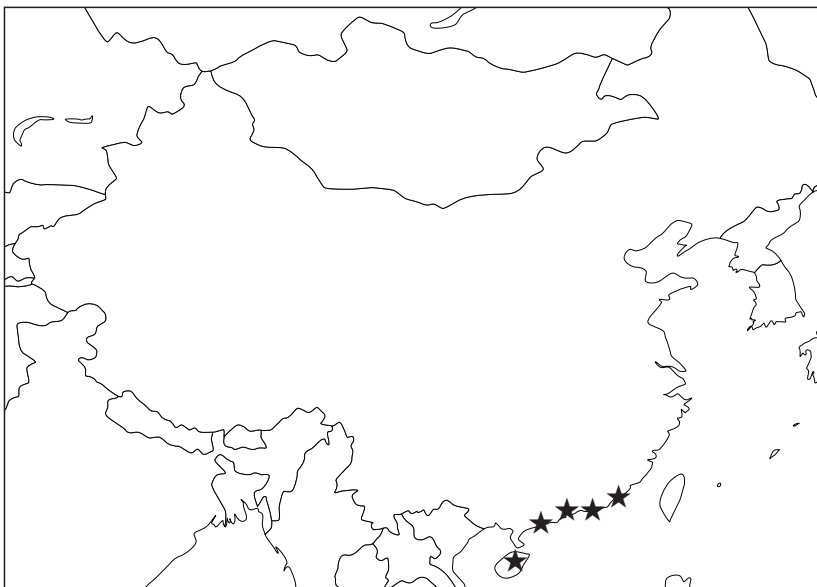
中国の経済

■外国企業の誘致^{ゆうち}

1980年代から、中国では自由な経済活動が認められるようになり、その結果、沿海部に外国企業を受け入れるための**経済特区**が設けられた。

⇒賃金^{ちんぎん}の安さなどに注目した日本などの外国企業が進出し、中国の工業化がうながされた。

▶経済特区の場所
(★印で示した)



月額賃金の比較 (米ドル / 2015年)

横浜	2,588
北京	578

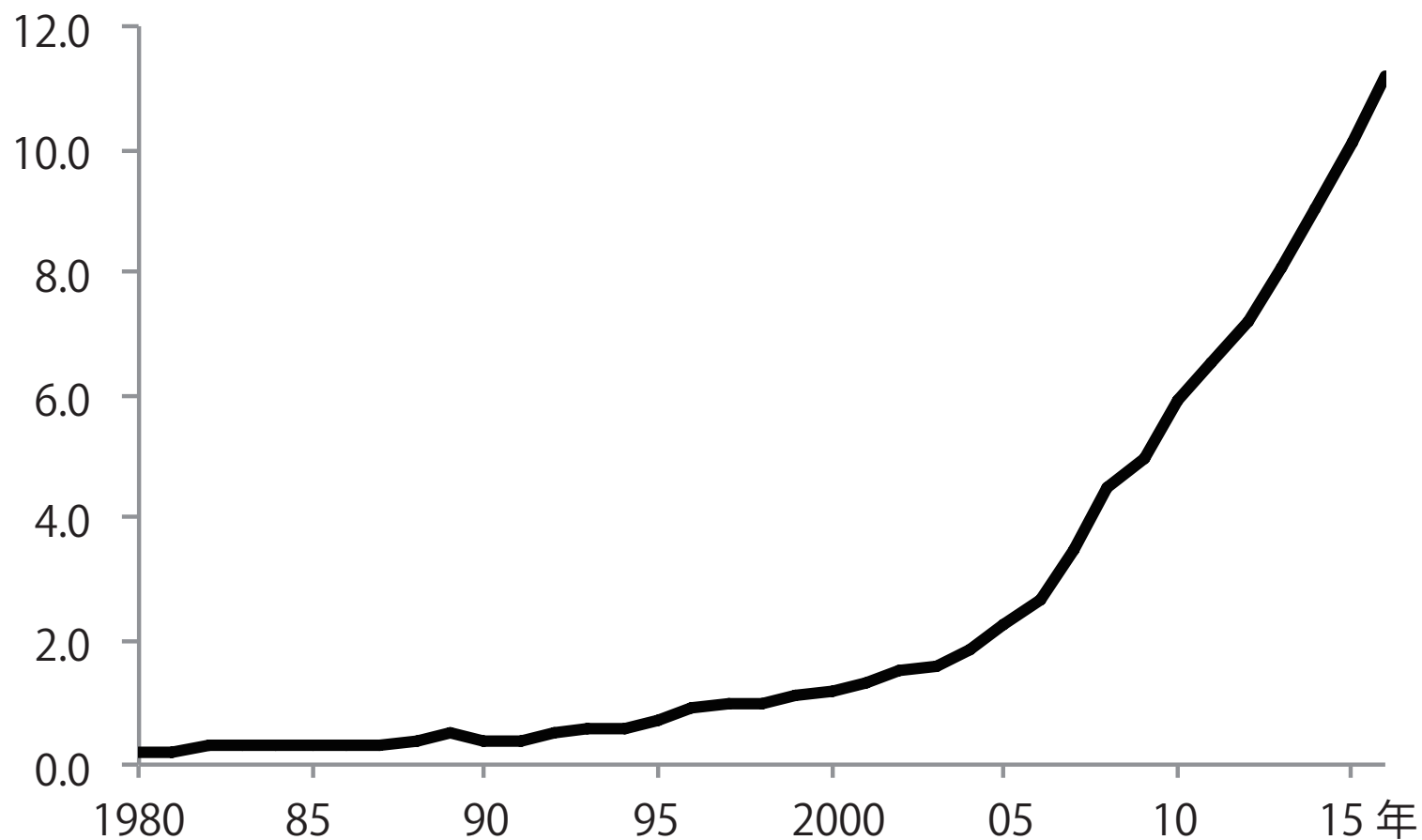


▲経済特区に
指定されている都市

■ 「世界の工場」としての中国

工業化をおしすすめた中国は、輸出向けの製品を大量に生産している
ので、「**世界の工場**」とよばれるようになった。

兆ドル



■中国の経済格差

沿海部の都市は工業化して経済成長したが、内陸部の農村では工業化が遅れ、収入が少なく、沿海部と内陸部の格差が拡大していることが問題となっている。



◀中国西部の村



◀中国沿海部の都市

月額最低賃金の比較（元 /2015）

青海	1,270
北京	1,720

■中国西部の都市 作者名：Andreas Gruschke 作品名：MatiSikl URL:<http://commons.wikimedia.org/wiki/File:MatiSikl.jpg?uselang=ja> CC-BY-SA

■中国沿海部の都市 作者名：Yhz1221 作品名：Shanghai Pudong Panorama Jan 2 2014 URL:http://commons.wikimedia.org/wiki/File:Shanghai_Pudong_Panorama_Jan_2_2014.jpg?uselang=ja CC-BY-SA

地図問題

地図中の★は、中国が外国の企業を受け入れるために開放した地域を示している。この地域のことを何とというか、答えなさい。

(地図)



経済特区

東南アジアの農業

■農業

東南アジアは降水量が多いので、**稲作**地帯が多い。



▲タイの稲作

米の生産量ランキング

	国名		国名
1位	中国	6位	バングラデシュ
2位	インド	7位	ミャンマー
3位	インドネシア	8位	フィリピン
4位	ベトナム	9位	ブラジル
5位	タイ	10位	日本

東南アジアの歴史

■ 欧米による植民地支配

16世紀ごろからヨーロッパ諸国が東南アジアに進出し始め、20世紀にはその大部分が欧米諸国の**植民地**となった。



▲ 20世紀の東南アジア



▲ オランダに降伏する
インドネシアの王子



▲ ゴムのプランテーション
(インドネシア)



▲ フィリピンを攻撃する
アメリカ軍



▲ ベトナムを攻撃する
フランス軍

複合問題

フィリピンでは、英語が公用語の一つとなっている。次の文はその背景に関して述べたものである。文中の空欄（ A ）に当てはまる国名を①～④の中から一つ選び、また、（ B ）に当てはまる適切な語句を漢字 3 文字で答えなさい。

フィリピンはかつて（ A ）の（ B ）となっていたということが、フィリピンの公用語の選択に影響を与えている。

- ① オランダ
- ② フランス
- ③ ドイツ
- ④ アメリカ

A : ④ B : 植民地

ASEAN

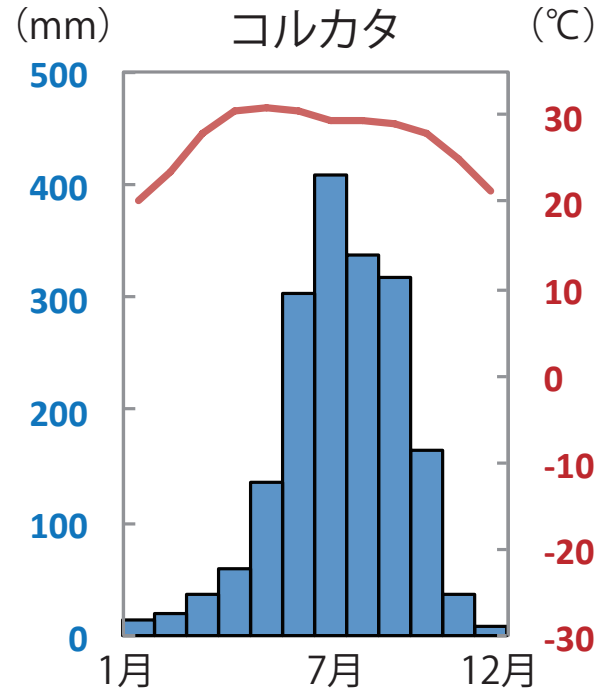
■ ASEAN（東南アジア諸国連合）

政治・経済などで協力することを目的に東南アジアの10カ国が加盟。関税をなくすなど経済統合を進めている。

インドの気候と農業

■インド東部

ガンジス川流域やインド東部では、**モンスーン**(季節風)の影響で夏に降水量が多くなるので稲作がおこなわれる。



▲ 大雨で冠水した町



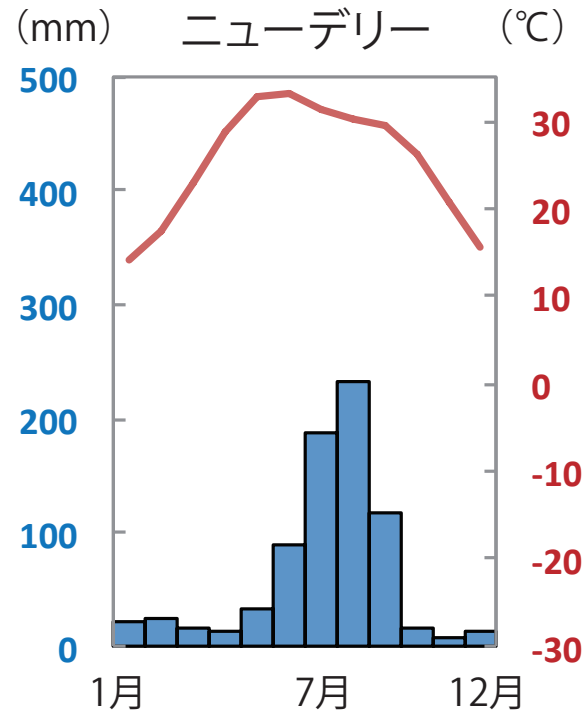
▲ 稲作をしているところ

■大雨で冠水した町 作者: McKay Savage 作品名: India - Chennai - Monsoon - 04 (3058215637) URL: [https://commons.wikimedia.org/wiki/File:India_-_Chennai_-_Monsoon_-_04_\(3058215637\).jpg?uselang=ja](https://commons.wikimedia.org/wiki/File:India_-_Chennai_-_Monsoon_-_04_(3058215637).jpg?uselang=ja) CC-BY-SA
■稲作をしているところ 作者: McKay Savage 作品名: India - Sights & Culture - Planting Rice Paddy 1 (5208293805) URL: [https://commons.wikimedia.org/wiki/File:India_-_Sights_%26_Culture_-_Planting_Rice_Paddy_1_\(5208293805\).jpg?uselang=ja](https://commons.wikimedia.org/wiki/File:India_-_Sights_%26_Culture_-_Planting_Rice_Paddy_1_(5208293805).jpg?uselang=ja) CC-BY-SA

インドの気候と農業

■インド中部と西部

インドの西部やデカン高原は乾燥しているので、小麦や綿花の栽培がおこなわれる。



▲小麦の収穫をしているところ



▲綿花

インドの宗教

■ヒンドゥー教

インドでは**ヒンドゥー教**が信仰されている。

ヒンドゥー教はインドの民族宗教であり、カースト制度と強く結びついた多神教である。ヒンドゥー教では神の使いである牛を食べない。



▲ヴィシュヌ神



▲クリシュナ神と聖牛



▲ガンジス川での沐浴

四択問題

次の文中の（ ）に当てはまる語句の組み合わせとして最も適切なものを①～④の中から一つ選びなさい。

インドでは、（ A ）がさかんである。（ A ）を信仰している人々は、（ B ）を食べない。


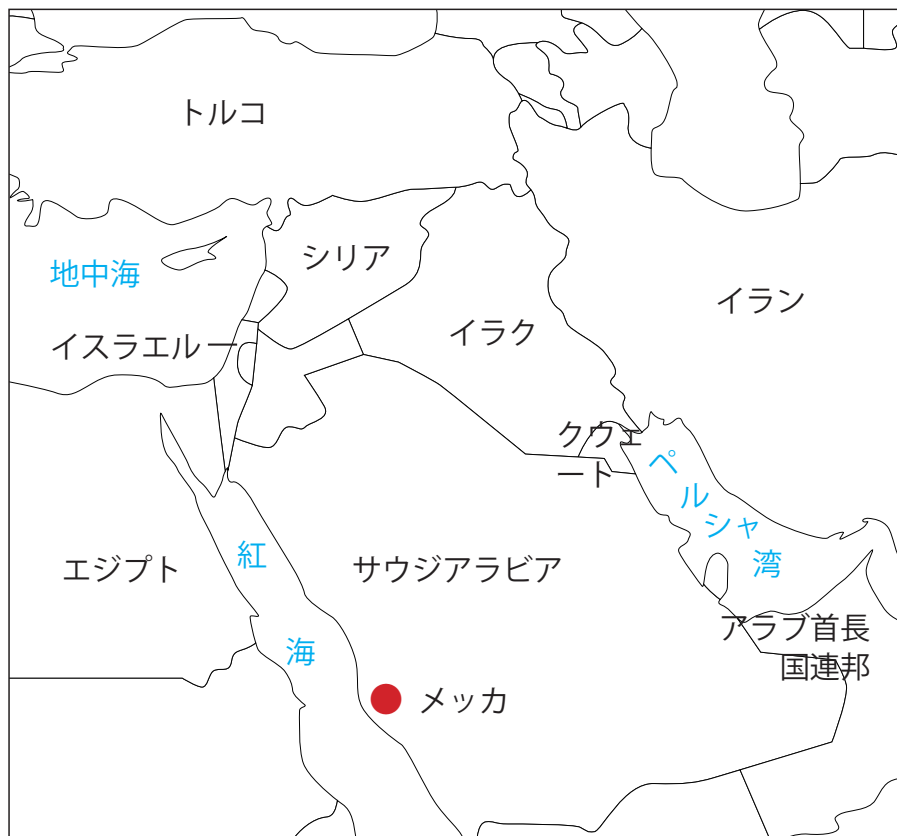
- | | | |
|---|----------|-----|
| ① | A—ヒンドゥー教 | B—鳥 |
| ② | A—イスラム教 | B—豚 |
| ③ | A—ヒンドゥー教 | B—牛 |
| ④ | A—イスラム教 | B—鳥 |

③

西アジアの宗教

■イスラム教

サウジアラビアなどの西アジア諸国では、**イスラム教**が信仰されている。1日5回、聖地のメッカに向かって祈りをささげる、豚肉を食べない、断食をする月があるなど様々な決まりがある。



▲ メッカ



▲ 天使から啓示を受けるムハンマド

西アジアの経済

■原油でうるおう西アジア諸国

西アジアでは、原油がとれる国が多い。

日本はサウジアラビアからたくさんの原油を輸入している。

順位	国名	順位	国名
1位	アメリカ	6位	イラク
2位	サウジアラビア	7位	イラン
3位	ロシア	8位	アラブ首長国連邦
4位	カナダ	9位	クウェート
5位	中国	10位	メキシコ

▲ 1日あたりの原油の生産量が多い国（2015年）



アラブ首長国連邦・ドバイ



サウジアラビアの首都・リヤド

■ドバイ 作者：Nepenthes 作品名：Dubai skyline (2) URL: [https://commons.wikimedia.org/wiki/File:Dubai_skyline_\(2\).JPG?uselang=ja](https://commons.wikimedia.org/wiki/File:Dubai_skyline_(2).JPG?uselang=ja) CC-BY-SA

■サウジアラビアの首都・リヤド 作者：lbuz4u 作品名：Beautiful Kingdom Tower URL: https://commons.wikimedia.org/wiki/File:Beautiful_Kingdom_Tower.jpg?uselang=ja CC-BY-SA